



UNIVERSIDAD NACIONAL DE SAN JUAN

**FACULTAD DE CIENCIAS EXACTAS, FÍSICAS Y
NATURALES**



**DOCUMENTO TEÓRICO PRÁCTICO CORRESPONDIENTE
AL MÓDULO MATEMÁTICA**

CURSO DE INGRESO

- LICENCIATURA EN CIENCIAS DE LA COMPUTACIÓN
- LICENCIATURA EN SISTEMAS DE INFORMACIÓN
- LICENCIATURA EN BIOLOGÍA
- LICENCIATURA EN CIENCIAS GEOLÓGICAS
- LICENCIATURA EN FÍSICA
- LICENCIATURA EN GEOFÍSICA
- LICENCIATURA EN ASTRONOMÍA
- TECNICATURA UNIVERSITARIA EN PROGRAMACIÓN WEB
- TECNICATURA UNIVERSITARIA EN EXPLORACIÓN GEOLÓGICA

Contenido

UNIDAD 1	1
Conjuntos.....	1
NOCIÓN INTUITIVA DE CONJUNTO.....	1
FORMAS DE DEFINIR UN CONJUNTO.....	1
CONJUNTOS NOTABLES	2
PERTENENCIA, INCLUSIÓN Y OPERACIONES CON CONJUNTOS	2
PROPIEDADES DE LAS OPERACIONES ENTRE CONJUNTOS	3
Conjuntos Numéricos	4
REPRESENTACIÓN GRÁFICA DE LOS NÚMEROS REALES	6
Números Complejos: C	7
OPERACIONES CON NÚMEROS REALES	8
Propiedades de algunas operaciones	11
ORDEN EN EL CONJUNTO R	14
PROPIEDADES DE LA IGUALDAD EN R	15
PROPIEDADES DE LA DESIGUALDAD.....	15
SUBCONJUNTOS DE LOS NÚMEROS REALES: INTERVALOS	15
OPERACIONES CON INTERVALOS	18
UNIDAD 2	1
ECUACIONES.....	1
ECUACIÓN LINEAL	1
ACTIVIDADES	1
ECUACION CUADRÁTICA	2
ACTIVIDADES	3
Desigualdades e Inecuaciones	4
ACTIVIDAD: Encontrar el intervalo solución de las siguientes inecuaciones:	5
VALOR ABSOLUTO	6
ACTIVIDADES	7
SISTEMAS DE ECUACIONES LINEALES CON DOS INCOGNITAS	7
Clasificación de sistemas lineales	7
UNIDAD 3	1
Expresiones algebraicas.....	1
Polinomios.....	1
Valor numérico de un polinomio.....	2
Operaciones con polinomios	3
Suma (resta) de Polinomios	3
Multiplicación de Polinomios.....	3
Productos Especiales:	4
División de un polinomio por un polinomio cualquiera.....	5
TEOREMA DEL RESTO	7
Factorización de polinomios.....	7
Factor Común	8
Trinomio Cuadrado Perfecto	8
Diferencia de Cuadrados	9
Teorema Fundamental del Álgebra. Factorización por medio de raíces	9
Raíces de polinomios de primer grado	10
Raíces de polinomios de segundo grado	10
Raíces de polinomios de grado mayor o igual a dos	11
UNIDAD 4	1

Trigonometría.....	1
SISTEMA DE MEDICIÓN ANGULAR	1
❖ Sistema sexagesimal:	1
❖ Sistema Radial:.....	1
TABLA DE CONVERSIÓN ENTRE LOS SISTEMAS DE MEDIDAS ANGULARES	2
Razones trigonométricas.....	3
.....	3
Circunferencia Trigonométrica.....	3
Relaciones entre las razones trigonométricas	5
INVERSAS DE RELACIONES TRIGONOMÉTRICAS	7
APLICACIÓN DE TRIGONOMETRÍA EN TRIÁNGULOS RECTÁNGULOS	9
PRÁCTICAS.....	1



CONSEJOS PARA TENER EN CUENTA ANTES DE EMPEZAR:

- ✓ ***LEER CON MUCHA ATENCIÓN LOS CONTENIDOS.***
- ✓ ***PONER ÉNFASIS EN LOS EJEMPLOS.***
- ✓ ***REALIZAR UNA INTERPRETACION A CONCIENCIA DE LOS ENUNCIADOS DE CADA UNA DE LAS ACTIVIDADES Y/O EJERCICIOS PROPUESTOS.***
- ✓ ***RESOLVER MINUCIOSAMENTE LOS EJERCICIOS ADICIONANDO ADEMÁS, PARA SU CONTROL, LOS CÁLCULOS AUXILIARES QUE SURGIERAN.***
- ✓ ***SIEMPRE CONSULTAR LAS DUDAS QUE TENGAN, NINGUNA DUDA CARECE DE IMPORTANCIA.***

UNIDAD 1

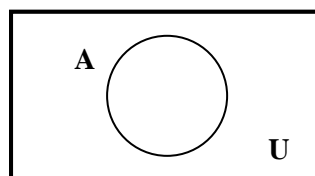

Conjuntos

NOCIÓN INTUITIVA DE CONJUNTO

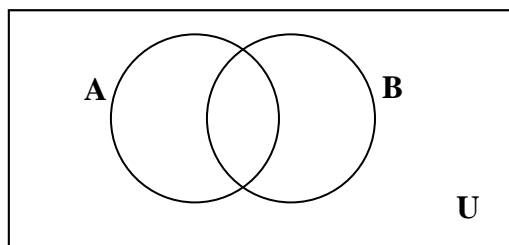
La palabra **CONJUNTO** nos remite, intuitivamente a una agrupación o colección de objetos que reciben el nombre de elementos. Un conjunto es cualquier colección (finita o infinita) de elementos de cualquier naturaleza.

Todo conjunto está inmerso en otro conjunto llamado Universal. Se denotan con letras mayúsculas y a sus elementos con minúsculas. Es usual representarlos por medio de Diagramas de Venn.

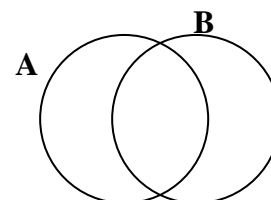
Consideremos en los casos correspondientes dos Conjuntos A y B.



El diagrama de Venn más general para representar dos conjuntos cualesquiera es:



ó simplemente



Los diagramas de Venn sólo se utilizan para representar gráficamente conjuntos **finitos**.

No importa el orden en el cual los elementos del conjunto se colocan. Los mismos, deben estar separados por coma y no se pueden repetir elementos.

FORMAS DE DEFINIR UN CONJUNTO

Si queremos indicar el conjunto de las vocales podemos escribir:

$$A = \{x / x \text{ sea una vocal}\} \quad \text{ó} \quad A = \{a, e, i, o, u\}$$

Un conjunto está definido por **extensión o enumeración**, cuando **entre llaves figuran** todos sus elementos.

Ejemplos:

a) $A = \{a, e, i, o, u\}$

b) $B = \{\text{lunes, martes, miércoles, jueves, viernes, sábado, domingo}\}$

Un conjunto está definido por **comprensión**, cuando se enuncia la propiedad que caracteriza a sus elementos.

Ejemplos:

a) $A = \{x / x \text{ sea una vocal}\}$

b) $B = \{x / x \text{ es día de la semana}\}$

CONJUNTOS NOTABLES

Conjunto Vacío: se simboliza con \emptyset y es aquel conjunto que no posee elementos.

Ejemplo: $A = \{\text{números impares entre 5 y 7}\} = \emptyset$

No existe ningún número impar entre los números 5 y 7.

Conjunto Universal: se simboliza con U y es aquel conjunto que contiene todos los elementos del tema en estudio; por lo tanto no es fijo y se debe fijar de antemano.

Nota: Si un conjunto tiene n elementos, se dice que es **finito**, caso contrario el conjunto es **infinito**.

PERTENENCIA, INCLUSIÓN Y OPERACIONES CON CONJUNTOS

En el siguiente cuadro presentamos algunas notaciones en lenguaje simbólico y su traducción al lenguaje coloquial.

$x \in A$	“El elemento x pertenece al conjunto A ” o “En el conjunto A está el elemento x ”
$x \notin A$	“El elemento x no pertenece al conjunto A ” o “En el conjunto A no está el elemento x ”
$A \subseteq B$	“ A es un subconjunto de B ” o “ A está contenido en B ” o “ B contiene a A ”
$A \not\subseteq B$	“ A no es un subconjunto de B ” o “ A no está contenido en B ” o “ B no contiene a A ”
$A \cup B$	“ A unión B ” está definido como: $A \cup B = \{x/x \in A \vee x \in B\}$
$A \cap B$	“ A intersección B ” está definido como: $A \cap B = \{x/x \in A \wedge x \in B\}$
$A - B$	“ A menos B ” está definido como: $A - B = \{x/x \in A \wedge x \notin B\}$
$\bar{A} = A^C$	“complemento de A ” está definido como $\bar{A} = \{x/x \in U \wedge x \notin A\}$

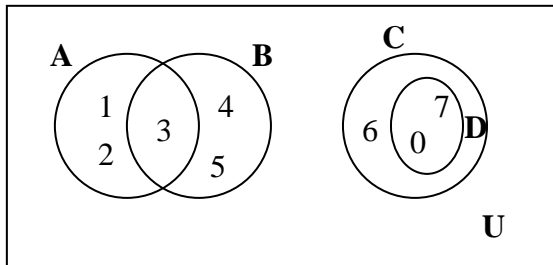
Ejemplos:

a) $N \subseteq Z \subseteq Q \subseteq R \subseteq C$

b) $\{2, 4, 6\} \subseteq \{2, 4, 6, 8\}$

c) $\{1, 3, 6, 7\} \not\subseteq \{1, 3, 6, 9\}$

d) $U = \{x / x \in N_0 \text{ y } x \leq 7\} = \{0, 1, 2, 3, 4, 5, 6, 7\}$



$A \subseteq U$

$B \subseteq U$

$C \subseteq U$

$D \subseteq U$

$D \subseteq C$

Observación: Para cualquier conjunto A se verifica que:

❖ $\emptyset \subseteq A$

❖ $A \subseteq A$

❖ $A \subseteq U$

La **pertenencia** vincula **elementos con conjuntos** y la **inclusión** vincula **conjuntos con conjuntos**.

PROPIEDADES DE LAS OPERACIONES ENTRE CONJUNTOS

Las operaciones con conjuntos verifican las siguientes propiedades:

❖ **Propiedad conmutativa**

a) $A \cup B = B \cup A$

b) $A \cap B = B \cap A$

❖ **Propiedad asociativa**

a) $A \cup (B \cap C) = (A \cup B) \cap (A \cup C)$

b) $A \cap (B \cup C) = (A \cap B) \cup (A \cap C)$

❖ **Propiedad distributiva**

a) $A \cup (B \cap C) = (A \cup B) \cap (A \cup C)$

b) $A \cap (B \cup C) = (A \cap B) \cup (A \cap C)$

❖ **Propiedad de idempotencia**

a) $A \cup A = A$

b) $A \cap A = A$

❖ **Leyes de De Morgan**

a) $\overline{A \cup B} = \bar{A} \cap \bar{B}$

b) $\overline{A \cap B} = \bar{A} \cup \bar{B}$

ACTIVIDADES

Sugerencia: Para resolver este tipo de actividades, es conveniente escribir (cuando sea posible) los conjuntos dados por comprensión, por extensión.

1) Sean $U = \{x / x \in \mathbb{N}_0: 0 \leq x \leq 9\}$, $A = \{1, 2, 3, 4\}$, $B = \{x / x \in \mathbb{N}_0: 5 \leq x \leq 8\}$,

$D = \{3, 4\}$; $C = \{3, 4, 5, 6\}$; calcular por extensión y hacer el diagrama de Venn correspondiente

a) $A \cup B$

e) $A \cap C$

b) $D \cap B$

f) \overline{A}

c) $A - B$

g) $D - C$

d) $C \cup D$

h) $\overline{A \cap B}$

2) Completar las siguientes propiedades (los diagramas de Venn son a menudo útiles para identificar o justificar las propiedades).

a) $A \cup U = \dots\dots\dots$

e) $\overline{\phi} = \dots\dots\dots$

b) $A \cup \phi = \dots\dots\dots$

f) $\overline{U} = \dots\dots\dots$

c) $A \cap U = \dots\dots\dots$

g) $\overline{\overline{A}} = \dots\dots\dots$

Conjuntos Numéricos

❖ **Números Naturales:** \mathbb{N}

Los números naturales fueron los primeros que utilizó el ser humano para contar objetos. El conjunto de los números naturales tiene infinitos elementos y una manera no apropiada de simbolizarlo (pues los conjuntos infinitos no se pueden escribir por extensión es:

$$\mathbb{N} = \{1, 2, 3, 4, 5, \dots\}$$

Los puntos suspensivos indican que en \mathbb{N} no hay último elemento, pero sí existe primer elemento que es el número 1 y además todo número natural, llamémosle x , tiene su número natural consecutivo o siguiente, $x + 1$.

La manera correcta de escribir el conjunto de los números naturales es por comprensión, como sigue:

$$\mathbb{N} = \{x: x \text{ es un número natural}\}$$

Al conjunto de los naturales con el cero incluido, se puede simbolizar (de manera no apropiada):

$$\mathbb{N}_0 = \{0, 1, 2, 3, 4, 5, \dots\}$$

Por comprensión este conjunto se expresa como:

$$\mathbb{N}_0 = \{x: x \text{ es un número natural ó cero}\}$$

Los números naturales constituyen un conjunto **cerrado** para las operaciones de **suma** y **multiplicación** ya que, al operar con cualquiera de sus elementos, el resultado siempre será un número natural:

$5 + 6 = 11$; $8.5 = 40$.

No ocurre lo mismo, en cambio, con la **resta**; por ejemplo $8 - 3$ es un número natural, pero $3 - 8$ no es un número natural; como consecuencia de ello surgen los **números negativos**.

❖ Números enteros: Z

Los **números enteros** abarcan a los números **naturales**, el **cero** y a los **números negativos**.

Una manera no apropiada (por ser un conjunto infinito) de escribir este conjunto es:

$$\mathbf{Z} = \{ \dots, -5, -4, -3, -2, -1, 0, 1, 2, 3, 4, 5, \dots \}$$

La forma correcta de escribir este conjunto es por comprensión y es de la forma:

$$\mathbf{Z} = \{x: x \text{ es un número entero}\}$$

Todo número natural es un número entero.

Los números enteros permiten expresar cantidades negativas como un saldo deudor en una cuenta bancaria, un año de la era antes de Cristo, el número de una planta del sótano de un edificio, la representación de profundidades bajo el nivel del mar, temperaturas bajo cero, etc.

El conjunto de los números enteros es **cerrado** para la suma, la resta y el producto; sin embargo, la división de dos números a/b no siempre es un número entero. Es por ello que surge el conjunto de los números fraccionarios o racionales.

❖ Números racionales: Q

Se llama **número racional** a todo número que puede representarse como el cociente de dos enteros con denominador **distinto de cero**.

El término «racional» alude a «ración» o «parte de un todo».

Un número racional es un decimal finito o infinito periódico; por ejemplo, el número decimal finito 0,75

es la representación decimal del número racional $\frac{3}{4}$ y el número decimal infinito periódico 0,333... es la

representación decimal del número racional $\frac{1}{3}$.

Luego, un número es racional si verifica alguna de las siguientes condiciones:

- *es un número entero (positivo, negativo o 0).*
- *es un número fraccionario.*
- *es un número decimal, con un número finito de cifras.*
- *es un número decimal periódico.*

❖ Números irracionales: I

Los números decimales que tienen infinitas cifras no periódicas, se denominan **números irracionales**: π , $\sqrt{2}$, e , $\sqrt{3}$, etc.

❖ **Números reales: \mathbf{R}**

El conjunto formado por los números irracionales y racionales es el conjunto de los **números reales**.

Todo número natural es un número real.

Todo número entero es un número real.

Todo número racional es un número real.

Todo número irracional es un número real.

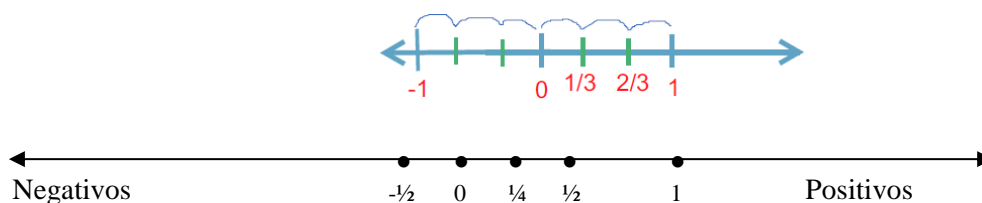
REPRESENTACIÓN GRÁFICA DE LOS NÚMEROS REALES

Los números reales se representan geoméricamente en la recta numérica, esto es, se indica sobre una recta un punto fijo **O** que se llama **origen** y que corresponde al número real cero.

Considerando un segmento unitario como unidad de medida, a la derecha de **O** se indican los puntos que corresponden a los números reales positivos (\mathbf{R}^+) y a la izquierda de **O** los puntos que corresponden a los números reales negativos (\mathbf{R}^-).

De esta manera, a cada número real le corresponde un único punto de la recta, y a cada punto de la recta, un único número real. Para representar gráficamente un número fraccionario en la recta numérica, se divide la unidad en tantas partes como lo indique el denominador de la fracción y luego se toman tantas partes de la subdivisión como lo indique el numerador.

Ejemplos:



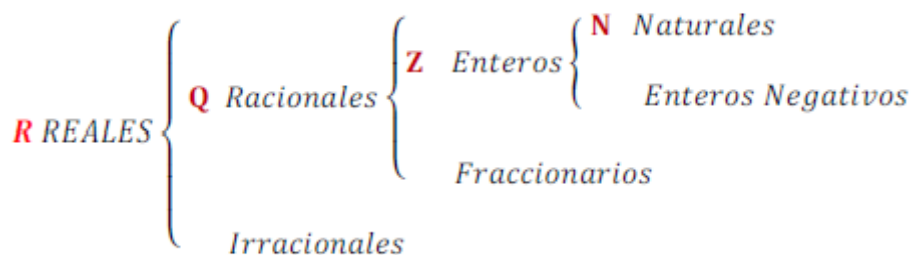
A tener en cuenta!!!

Entre dos naturales siempre hay un número finito de naturales entre ellos.

Entre dos números enteros hay un número finito de enteros entre ellos.

Entre dos números racionales hay infinitos racionales entre ellos.

Entre dos números reales hay infinitos reales entre ellos.



Números Complejos: C

Al tratar de resolver igualdades como $x^2 + 4 = 0$, aparecen expresiones como $\sqrt{-4}$ que no es posible resolver en el conjunto de los números reales, ya que ningún número real elevado al cuadrado es igual a -4 . Por ello surgieron los **números imaginarios** para que sea posible la radicación de números reales negativos: $\sqrt{-4} = \sqrt{4 \cdot (-1)} = \sqrt{4} \cdot \sqrt{-1} = 2i$

Se denomina **unidad imaginaria** a $i = \sqrt{-1}$ y es tal que $i^2 = -1$

Los números complejos son combinaciones algebraicas de números reales con números imaginarios.
Todo número natural es un número complejo.

Todo número entero es un número complejo.

Todo número racional es un número complejo.

Todo número irracional es un número complejo.

Todo número real es un número complejo.

ACTIVIDADES

1. Dar un ejemplo de un número:

- a) entero no natural
- b) imaginario puro
- c) real no entero
- d) fraccionario entero

2. Indicar si los siguientes enunciados son verdaderos o falsos.

- a) 0 es un número natural.
- b) 6 es un número entero.
- c) $\sqrt[3]{-2}$ es un número real.
- d) -5 es un número racional.
- e) $\frac{\sqrt{2}}{2}$ es un número racional.
- f) $\sqrt{-1}$ es un número real.
- g) $(-3)^2$ es un número natural.
- h) 1,3 es un número irracional
- i) Con los elementos de \mathbf{Q} se puede medir cualquier longitud.
- j) Todo número entero es positivo o negativo.
- k) 0 es un número entero par.
- l) -5 está a la derecha de -7 en la recta numérica.

3. Dados los siguientes conjuntos:

$$A = \{0, 2, 4, 6, 8\}, \quad B = \{1, 2, 3, 4, 5, 6\}, \quad C = \{x/x \text{ es dígito mayor que } 3\}$$

Indicar verdadero (V) o falso (F) en las siguientes afirmaciones:

- | | |
|-----------------|------------------|
| a) $7 \in B$ | e) $0 \in A$ |
| b) $3 \notin C$ | f) $9 \notin C$ |
| c) $8 \in A$ | g) $11 \notin A$ |
| d) $5 \notin B$ | h) $8 \in B$ |

4. Escribir un número real que esté comprendido entre cada par de números dados.

- a) 0,6 y 0,8
 b) 0 y 1
 c) 2,34 y 2,36
 d) 2,34 y 2,35
 e) 0,9 y 1

5. Representar, en un mismo diagrama de Venn, los siguientes conjuntos:

$$U = \{x/x \text{ es dígito}\}, \quad A = \{0, 2, 4, 6, 8\}, \quad B = \{1, 2, 3, 4, 5, 6\}, \quad C = \{x/x \text{ es dígito mayor que } 3\}$$

6. En base a los conjuntos dados colocar \subseteq o $\not\subseteq$ según corresponda:

$$U = \{x / x \text{ es número natural}\}$$

$$A = \{x / x \text{ es número natural impar}\}$$

$$B = \{x / x \text{ es número natural múltiplo de } 2\}$$

$$C = \{x / x = 4.n, \text{ con } n \text{ número natural}\} \text{ (múltiplos de } 4)$$

- | | |
|----------------|----------------|
| a) $A \dots U$ | e) $B \dots C$ |
| b) $A \dots B$ | f) $C \dots A$ |
| c) $C \dots B$ | g) $A \dots C$ |
| d) $B \dots A$ | h) $B \dots U$ |

7. Representar en la recta real los siguientes números: -4 ; $-\frac{1}{2}$; $1,5$; $-\frac{5}{2}$, $\underline{3,5}$ **OPERACIONES CON NÚMEROS REALES****❖ Suma o resta de números fraccionarios****A) Fracciones de igual denominador**

Para sumar (o restar) dos números fraccionarios de igual denominador se procede de la siguiente

manera:

$$\frac{a}{b} \pm \frac{c}{b} = \frac{a \pm c}{b}$$

Ejemplos:

a) $\frac{3}{5} + \frac{9}{5} = \frac{3+9}{5} = \frac{12}{5}$

b) $\frac{3}{5} - \frac{9}{5} = \frac{3-9}{5} = \frac{-6}{5}$

B) Fracciones de distinto denominador

Para sumar (o restar) dos números fraccionarios de igual denominador se procede de la siguiente manera:

$$\frac{a}{b} \pm \frac{c}{d} = \frac{(m : b).a \pm (m : d).c}{m}; \text{ donde } \mathbf{m = m.c.m(b,d)}$$

Ejemplos:

a) $\frac{3}{5} + \frac{9}{15} = \frac{3.3+1.9}{15} = \frac{9+9}{15} = \frac{18}{15}$

b) $\frac{3}{5} - \frac{9}{15} = \frac{3.3-1.9}{15} = \frac{9-9}{15} = \frac{0}{15} = 0$

❖ **Multiplicación de números fraccionarios**

Para multiplicar dos números fraccionarios se procede de la siguiente manera:

$$\frac{a}{b} \cdot \frac{c}{d} = \frac{a.c}{b.d}$$

En la multiplicación de fracciones se simplifica cruzado.

Ejemplos:

a) $\frac{2}{3} \cdot \frac{5}{7} = \frac{2.5}{3.7} = \frac{10}{21}$

b) $\frac{8}{9} \cdot \frac{15}{4} = \frac{8.15}{9.4} = \frac{\overset{10}{\cancel{120}}}{\underset{3}{\cancel{36}}} = \frac{10}{3}$

Si se simplifica antes de multiplicar se obtiene:

$$\frac{2}{9} \cdot \frac{5}{4} = \frac{\overset{2}{\cancel{8}} \cdot \overset{5}{\cancel{15}}}{\underset{3}{\cancel{9}} \cdot \underset{1}{\cancel{4}}} = \frac{2.5}{3.1} = \frac{10}{3}$$

❖ **División de números fraccionarios**

Para dividir dos números fraccionarios se procede de la siguiente manera:

$$\frac{a}{b} : \frac{c}{d} = \frac{a.d}{b.c}$$

En la división de fracciones se simplifica horizontal.

Ejemplos:

$$\text{a) } \frac{2}{3} : \frac{5}{7} = \frac{2.7}{3.5} = \frac{14}{15}$$

$$\text{b) } \frac{16}{3} : \frac{8}{5} = \frac{16.5}{3.8} = \frac{\cancel{80}}{\cancel{-24}} = \frac{10}{3}$$

Si se simplifica antes de multiplicar se obtiene: $\frac{16}{3} : \frac{8}{5} = \frac{2}{3} : \frac{1}{5} = \frac{2.5}{3.1} = \frac{10}{3}$

❖ **Potenciación de números fraccionarios**

a) De exponente natural:

$$\left(\frac{a}{b}\right)^n = \frac{a^n}{b^n}, \text{ con } b \neq 0$$

b) De exponente entero negativo:

$$\left(\frac{a}{b}\right)^{-n} = \left(\frac{b}{a}\right)^n = \frac{b^n}{a^n}, \text{ con } b \neq 0, a \neq 0$$

En particular: $(a)^{-n} = \left(\frac{1}{a}\right)^n = \frac{1}{a^n}$ con $a \neq 0$

Ejemplos:

$$\text{a) } \left(\frac{3}{4}\right)^2 = \frac{3^2}{4^2} = \frac{9}{16}$$

$$\text{b) } \left(\frac{3}{4}\right)^{-2} = \left(\frac{4}{3}\right)^2 = \frac{4^2}{3^2} = \frac{16}{9}$$

$$\text{c) } \left(\frac{1}{4}\right)^{-2} = \left(\frac{4}{1}\right)^2 = \frac{4^2}{1^2} = \frac{16}{1} = 16$$

$$\text{d) } (-3)^{-2} = \left(\frac{-1}{3}\right)^2 = \frac{(-1)^2}{3^2} = \frac{1}{9}$$

❖ **Radicación de números fraccionarios**

$$\sqrt[n]{\frac{a}{b}} = \frac{\sqrt[n]{a}}{\sqrt[n]{b}}, \text{ con } b \neq 0$$

Si n es par entonces $\frac{a}{b}$ debe ser **mayor o igual a cero**.

Ejemplos:

$$\text{a) } \sqrt{\frac{9}{25}} = \frac{\sqrt{9}}{\sqrt{25}} = \frac{3}{5}$$

$$\text{b) } \sqrt[3]{-\frac{8}{27}} = \frac{\sqrt[3]{-8}}{\sqrt[3]{27}} = -\frac{2}{3}$$

Propiedades de algunas operaciones

❖ **Propiedad distributiva del producto respecto a la suma:**

$$(a + b) \cdot c = a \cdot c + b \cdot c \quad \text{con } a, b, c \in \mathbb{R}$$

$$a \cdot (b + c) = a \cdot b + a \cdot c \quad \text{con } a, b, c \in \mathbb{R}$$

❖ **Propiedad distributiva del cociente respecto a la suma:**

$$(a + b) : c = a : c + b : c \quad \text{con } a, b, c \in \mathbb{R} \quad c \neq 0$$

❖ **Propiedades de la potenciación:**

$$a^0 = 1, \text{ con } a \neq 0$$

$$1^n = 1$$

$$\text{Potencia de un producto: } (a \cdot b)^p = a^p \cdot b^p; \quad \text{con } p \in \mathbb{Q}$$

$$\text{Potencia de un cociente} \quad \left(\frac{a}{b}\right)^p = \frac{a^p}{b^p}; \quad \text{con } p \in \mathbb{Q} \quad b \neq 0$$

$$\text{Potencias de potencias: } (a^p)^q = a^{p \cdot q}; \quad \text{con } p \text{ y } q \in \mathbb{Q}$$

$$\text{Producto de potencias de igual base: } a^m \cdot a^p = a^{m+p}$$

$$\text{Cociente de potencias de igual base: } \frac{a^m}{a^p} = a^{m-p}; \quad \text{con } a \neq 0$$

❖ **Propiedades de la radicación:**

$$\text{Radicación de un producto: } \sqrt[n]{a \cdot b} = \sqrt[n]{a} \sqrt[n]{b}$$

$$\text{Radicación de un cociente: } \sqrt[n]{a : b} = \sqrt[n]{a} : \sqrt[n]{b}, \text{ con } b \neq 0$$

$$\text{Radicación como potencia de exponente fraccionario: } \sqrt[n]{a^m} = a^{\frac{m}{n}}$$

Ejemplos:

$$\text{a) } \left(\frac{3}{4}\right)^5 \cdot \left(\frac{3}{4}\right)^{-3} = \left(\frac{3}{4}\right)^{5+(-3)} = \left(\frac{3}{4}\right)^2 = \frac{9}{16}$$

$$\text{b) } z^2 \cdot z^{-1} \cdot z^{-3} \cdot z^5 = z^3$$

$$\text{c) } 3^2 \cdot 3^{-3} \cdot 3^{-4} \cdot 3 = 3^{-4} = \left(\frac{1}{3}\right)^4 = \frac{1}{81}$$

$$\text{d) } b^5 : b^2 = b^{5-2} = b^3$$

$$\text{e) } \frac{y^6}{y^7} = y^{6-7} = y^{-1} = \frac{1}{y}$$

f) $\frac{5^3}{(7-2)^3} = 5^{3-3} = 5^0 = 1$

g) $(2^2)^3 = 2^{2 \cdot 3} = 2^6 = 64$

h) $\left(\left(\frac{3}{2}\right)^4\right)^{-1} = \left(\frac{3}{2}\right)^{-4} = \left(\frac{2}{3}\right)^4 = \frac{16}{81}$

Cuidado !!!

La potenciación y la radicación no son distributivas ni respecto de la suma ni respecto de la resta



Éste es un error muy frecuente entre los estudiantes del nivel medio. Por ello proponemos comparar los siguientes cálculos

SÍ !!!

NO !!!

Cálculos correctos	Cálculos incorrectos
$(2 + 3)^2 = 5^2 = 25$	$(2 + 3)^2 = 2^2 + 3^2 = 4 + 9 = 13$
$(7 - 4)^2 = 3^2 = 9$	$(7 - 4)^2 = 7^2 - 4^2 = 49 - 16 = 33$
$\sqrt{9+16} = \sqrt{25} = 5$	$\sqrt{9+16} = \sqrt{9} + \sqrt{16} = 3 + 4 = 7$
$\sqrt{25-16} = \sqrt{9} = 3$	$\sqrt{25-16} = \sqrt{25} - \sqrt{16} = 5 - 4 = 1$

La radicación y potenciación **NO** distribuyen respecto de la suma o resta.

ACTIVIDADES

1. Unir con una flecha según corresponda:

- | | |
|-------------------------------|----------|
| $x + x$ | $2x^2$ |
| $x \cdot x$ | $2x$ |
| $2 \cdot x \cdot 3 \cdot x$ | $4x^2$ |
| $x^2 + x^2$ | $6x^2$ |
| $2 \cdot x + 4 \cdot x$ | $(2x)^3$ |
| $(2x)^2$ | $6x$ |
| $2 \cdot x \cdot 4 \cdot x^2$ | x^2 |

2. Colocar el símbolo = o ≠ según corresponda, para que los siguientes enunciados sean verdaderos.

a) $(20 - 7) - 8 \dots\dots\dots 20 - (7 - 8)$

b) $(5 + 3)^2 \dots\dots\dots 5^2 + 3^2$

c) $\frac{9 + 7}{15} \dots\dots\dots \frac{9}{15} + \frac{7}{15}$

d) $\frac{9 \cdot 7}{15} \dots\dots\dots \frac{9}{15} \cdot \frac{7}{15}$

e) $\frac{9 + 5}{25} \dots\dots\dots \frac{9 + 1}{5}$

f) $\frac{9 \cdot 5}{25} \dots\dots\dots \frac{9}{5}$

g) $1 - \frac{2}{3} \dots\dots\dots 1 + \left(\frac{-2}{3}\right)$

h) $-x^2 \dots\dots\dots (-x)^2$

i) $3 \cdot 2^2 \dots\dots\dots 6^2$

3. Determinar un conjunto que contenga todos los elementos sobre los cuales los valores de x tienen significado en el conjunto de los números reales.

a) $\frac{8}{x}$

h) $\frac{8}{x^2 - 9}$

b) $\frac{4}{x + 2}$

i) $\sqrt{x - 5}$

c) $\frac{0}{x - 1}$

j) $\frac{2}{\sqrt{x}}$

d) $\frac{x}{3 + 2}$

k) $\frac{1}{x^3}$

e) $\frac{4}{x^2}$

l) $\frac{5}{x^3 - 1}$

f) $\frac{-6}{(x - 3)(x + 3)}$

m) $\sqrt[3]{x + 5}$

g) $\frac{3}{x^2 + 3}$

n) $\frac{6}{\sqrt[3]{x - 3}}$

4. Resolver las siguientes operaciones e indicar el conjunto al que pertenece el resultado.

a) $[4^3 - 5(8 + 2)]: 7 =$

b) $\frac{1}{3} - \frac{1}{2} + \frac{2}{5} =$

c) $4 + \frac{5}{2} - \frac{1}{3} =$

d) $\sqrt{1 + \frac{9}{16}}$

$$\begin{array}{ll} \text{e)} \left(-\frac{3}{4}\right)^{-\frac{4}{5}} : \left(-\frac{3}{4}\right)^{\frac{1}{5}} = & \text{f)} \left(\frac{9}{16}\right)^{\frac{1}{4}} \cdot \left(\frac{9}{16}\right)^{-1} \cdot \left(\frac{9}{16}\right)^{\frac{3}{4}} = \\ \text{g)} \frac{11 \cdot (-3)^2 + 5^0}{7^2 + 1} + 1^3 - 3 = & \text{h)} \frac{-\frac{1}{5} + \left[\frac{1}{3} \cdot \left(-\frac{2}{5}\right)\right]}{-3} \\ \text{i)} -\frac{4}{5} \cdot \left(\frac{\frac{3}{4} \cdot \frac{2}{5}}{2 - \frac{1}{2}}\right) & \text{j)} \sqrt{\frac{5}{4} + 1} - \left(\frac{2}{3}\right)^{-1} + \left(\frac{1}{5}\right)^0 : 2 \\ \text{k)} \sqrt{2^2 \cdot 3^2} - \left(\frac{3}{5}\right)^{-7} \cdot \left(\frac{3}{5}\right)^5 \cdot \left(\frac{5}{3}\right)^{-2} + \left(3 - \frac{1}{2} \div \frac{1}{6}\right) & \text{l)} \left[-\frac{1}{3} \cdot \left(-\frac{1}{3}\right)^{-3} + \frac{1}{3}\right] : \left[\left(-\frac{1}{3}\right) - \left(\frac{1}{3}\right)^{-2}\right] + 1 \\ \text{m)} \left(\frac{1}{4} - 1\right)^2 + \sqrt[3]{-1 + \frac{7}{8}} + \left(-\frac{1}{2}\right)^{-1} \cdot \left(-\frac{1}{2}\right)^3 \end{array}$$

5. Resolver:

$$\text{a)} y^{\frac{1}{2}} \cdot y^{\frac{3}{4}} \cdot y^{\frac{2}{3}} =$$

$$\text{b)} \left(-\frac{1}{3}x + \frac{2}{5}x\right) \cdot 3x =$$

$$\text{c)} \frac{3 \cdot 2^n - 4 \cdot 2^n}{2^n + 2 \cdot 2^{n-1}}$$

$$\text{d)} \sqrt[3]{3x^3 - 4x^3 + \frac{7}{8}x^3}$$

6. Verificar las siguientes igualdades.

$$\text{a)} 3^n - 1 + 2 \cdot 3^n = 3^{n+1} - 1$$

$$\text{b)} \frac{3 \cdot (n+1)}{6} - \frac{n+1}{3} = \frac{n+1}{6}$$

$$\text{c)} 4^n - 1 + 3 \cdot 4^n = 4^{n+1} - 1$$

ORDEN EN EL CONJUNTO R

R es un conjunto ordenado. Esto es, dados dos números reales a y b vale una y solo una de las siguientes afirmaciones

$$\mathbf{a < b, a > b \text{ o } a = b}$$

PROPIEDADES DE LA IGUALDAD EN \mathbb{R}

- 2) Si sumamos o multiplicamos a ambos miembros de una igualdad una misma constante se obtiene otra igualdad:

$$\text{Si } a = b, \text{ entonces } a + c = b + c$$

$$\text{Si } a = b, \text{ entonces } a \cdot c = b \cdot c$$

- 2) Si sumamos o multiplicamos miembro a miembro dos igualdades se obtiene otra igualdad

$$\text{Si } a = b \text{ y } c = d, \text{ entonces } a + c = b + d$$

PROPIEDADES DE LA DESIGUALDAD

- 1) Si a ambos miembros de una desigualdad se suma una misma constante, la desigualdad se mantiene:

$$\text{Si } a < b, \text{ entonces } a + c < b + c$$

- 2) Si a ambos miembros de una desigualdad se multiplica por una misma constante positiva la desigualdad se mantiene

$$\text{Si } a < b \text{ y } c > 0, \text{ entonces } a \cdot c < b \cdot c$$

- 3) Si a ambos miembros de una desigualdad se multiplica por una misma constante negativa la desigualdad cambia de sentido

$$\text{Si } a < b \text{ y } c < 0, \text{ entonces } a \cdot c > b \cdot c$$

SUBCONJUNTOS DE LOS NÚMEROS REALES: INTERVALOS

A menudo se trabaja con subconjuntos de números reales que representan semirrectas o segmentos de recta. Dichos subconjuntos reciben el nombre de Intervalos.

Un **intervalo** es un conjunto infinito de números reales comprendidos entre dos valores fijos que se denominan **extremos del intervalo**.

Tipos de Intervalos

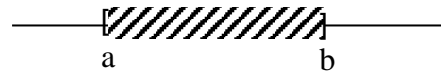
- ❖ **Intervalo Abierto** (a, b) es el conjunto de los números reales mayores que a y menores que b con $a < b$, donde a y b son los extremos que **No** pertenecen al intervalo.

Se escribe: $(a, b) = \{ x \in \mathbb{R} \mid a < x < b \}$



- ❖ **Intervalo Cerrado** $[a, b]$ es el conjunto de los números reales mayores o iguales que a y menores o iguales que b con $a < b$, donde **a** y **b** son los extremos que **Sí** pertenecen al intervalo.

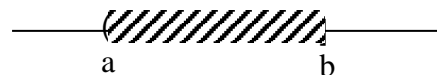
Se escribe: $[a, b] = \{x \in \mathbb{R} / a \leq x \leq b\}$



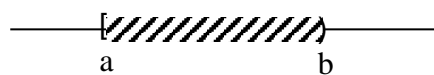
Se pueden realizar las combinaciones con los extremos llamándolos:

- ❖ **Intervalos semiabiertos** cuando son de la forma:

$(a, b] = \{x \in \mathbb{R} / a < x \leq b\}$




$[a, b) = \{x \in \mathbb{R} / a \leq x < b\}$



- ❖ **Intervalos Infinitos:** Se presentan las siguientes posibilidades

- a) $(-\infty, b)$ conjunto de los números reales menores que b .

$(-\infty, b) = \{x \in \mathbb{R} / x < b\}$




- b) $(-\infty, b]$ conjunto de los números reales menores o iguales que b .

$(-\infty, b] = \{x \in \mathbb{R} / x \leq b\}$




- c) $(a, +\infty)$ conjunto de los números reales mayores que a .

$(a, +\infty) = \{x \in \mathbb{R} / x > a\}$

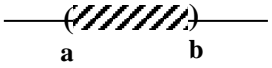



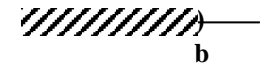





- d) $[a, +\infty)$ conjunto de los números reales mayores o iguales que a .

$[a, +\infty) = \{x \in \mathbb{R} / x \geq a\}$



En resumen se presenta la siguiente tabla:

Denominación	Notación de Intervalos	Notación como subconjunto de los reales	Forma gráfica
Intervalo abierto	(a, b)	$\{x \in \mathbb{R} / a < x < b\}$	
Intervalo cerrado	$[a, b]$	$\{x \in \mathbb{R} / a \leq x \leq b\}$	
Intervalos semiabiertos	$(a, b]$	$\{x \in \mathbb{R} / a < x \leq b\}$	
	$[a, b)$	$\{x \in \mathbb{R} / a \leq x < b\}$	
Intervalos infinitos	$(-\infty, b)$	$\{x \in \mathbb{R} / x < b\}$	
	$(-\infty, b]$	$\{x \in \mathbb{R} / x \leq b\}$	
	(a, ∞)	$\{x \in \mathbb{R} / x > a\}$	
	$[a, \infty)$	$\{x \in \mathbb{R} / x \geq a\}$	

Observaciones:

- ❖ Los símbolos ∞ y $-\infty$ se leen “infinito positivo” e “infinito negativo” respectivamente.
- ❖ Los intervalos no se expresan por extensión
- ❖ Los intervalos no se representan gráficamente mediante diagramas de Venn.
- ❖ Los intervalos se representan gráficamente en la recta real.

ACTIVIDADES

1. Definir por extensión o intervalo según corresponda, los siguientes conjuntos:

- a) $A = \{x: x \text{ es un número natural menor o igual a } 12\}$ g) $G = \{x / x \in \mathbb{Z} \text{ y } (x - 1) \cdot (x + 2) = 0\}$
b) $B = \{x: x \text{ es un número real menor o igual a } 12\}$ h) $H = \{x / x \in \mathbb{N} \text{ y } (x - 1) \cdot (x + 2) = 0\}$
c) $C = \{x: x \in \mathbb{N} \text{ y } -4 < x < 6\}$ i) $I = \{x / x \in \mathbb{N} \text{ y } (x + 1) \cdot (x - 3) = 0\}$
d) $D = \{x: x \in \mathbb{Z} \text{ y } -4 < x < 6\}$ j) $J = \{x / x \in \mathbb{Z} \text{ y } (x + 1) \cdot (x - 3) = 0\}$
e) $E = \{x: x \in \mathbb{R} \text{ y } -4 < x < 6\}$ k) $K = \{x / x \in \mathbb{R} \text{ y } (x + 1) \cdot (x - 3) = 0\}$

2. Representar los siguientes intervalos en la recta numérica:

a) $(4, +\infty)$

d) $[-3, 0]$

b) $(6, 10]$

e) $(-\infty, -2]$

c) $(-2, 5)$

f) $[-2, 5)$

3. Expresar los siguientes conjuntos como intervalos y representarlos en la recta numérica:

a) $A = \{ x / x \in \mathbb{R} \text{ y } -1 < x \leq 12 \}$

b) $B = \{ x / x \in \mathbb{R} \text{ y } 4 < x \}$

c) $C = \{ x / x \in \mathbb{R} \text{ y } x \geq -4 \}$

OPERACIONES CON INTERVALOS

Los intervalos son subconjuntos de números reales y las operaciones que se pueden realizar entre ellos son las operaciones propias entre conjuntos: unión, intersección, diferencia y complemento.

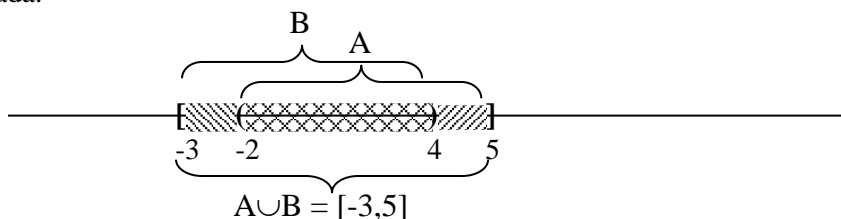
Se opera entre ellos gráficamente y posteriormente se expresa simbólicamente el conjunto obtenido.

❖ UNIÓN DE INTERVALOS: $A \cup B$

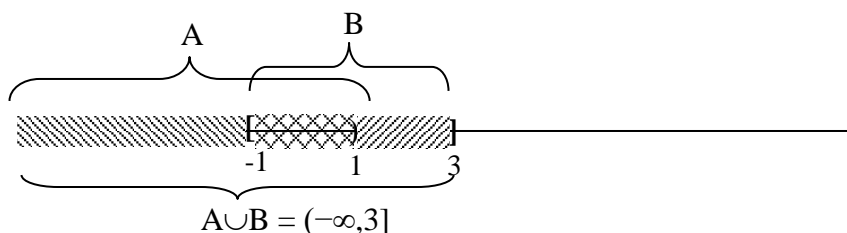
Se representan gráficamente ambos conjuntos en la recta numérica y la unión de intervalos es la sección de la recta numérica que se encuentra rayada.

Ejemplos:

a) $A = (-2, 5]$ y $B = [-3, 4)$



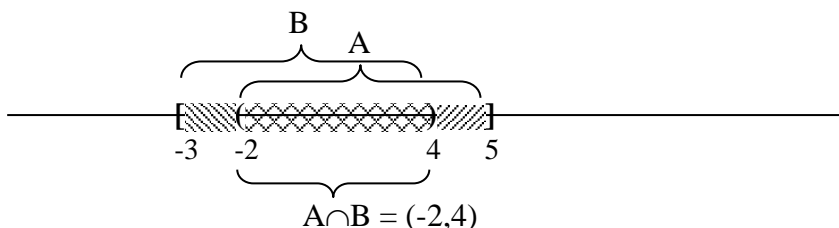
b) $A = (-\infty, 1)$ y $B = [-1, 3]$

**❖ INTERSECCIÓN DE INTERVALOS: $A \cap B$**

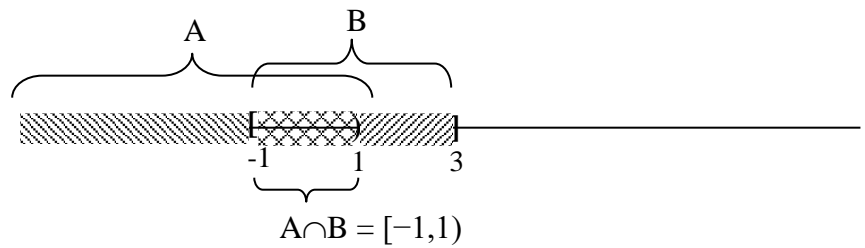
Se representan gráficamente ambos conjuntos en la recta numérica y la intersección de intervalos es la sección de la recta numérica común a ambos, que se encuentra doblemente rayada.

Ejemplos:

a) $A = (-2, 5]$ y $B = [-3, 4)$



b) $A = (-\infty, 1)$ y $B = [-1, 3]$

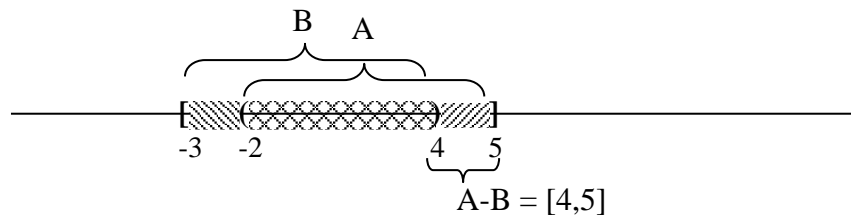


❖ **DIFERENCIA ENTRE INTERVALOS: A - B**

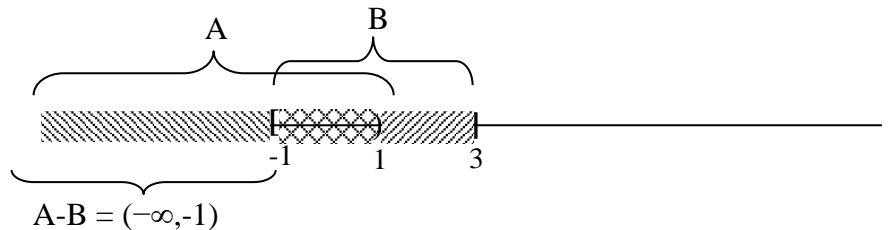
Se representa gráficamente el conjunto A en la recta numérica, luego se le quita lo rayado por el conjunto B.

Ejemplos:

a) $A = (-2, 5]$ y $B = [-3, 4)$



b) $A = (-\infty, 1)$ y $B = [-1, 3]$

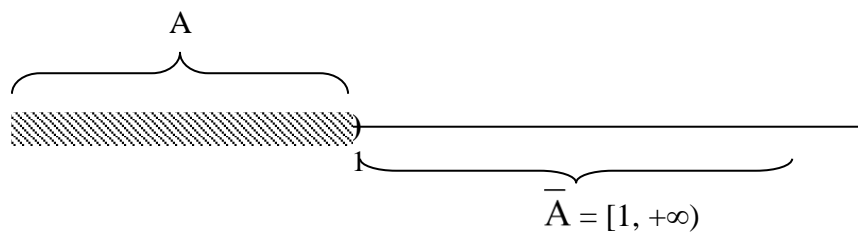


❖ **COMPLEMENTO DE UN INTERVALO**

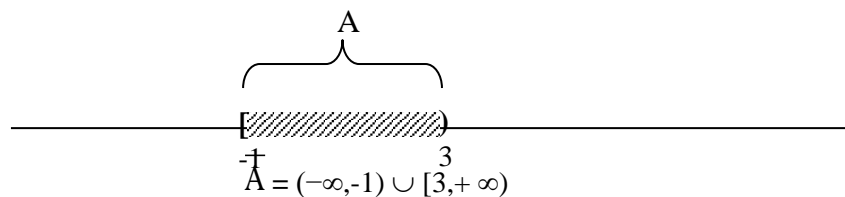
Se representa gráficamente el conjunto A en la recta numérica, luego el complemento de A es la sección de la recta numérica sin sombrear.

Ejemplos:

a) $A = (-\infty, 1)$



b) $A = [-1, 3)$



ACTIVIDAD

Calcular $A \cup B$, $A \cap B$, $A - B$ y \bar{A}

a) $A = [3, 5)$; $B = [1, 4]$

d) $A = (-2, 7)$; $B = [7, 9)$

b) $A = (-2, 5)$; $B = (-4, 2]$

e) $A = (3, 6)$; $B = (4, +\infty)$

c) $A = (-\infty, 4)$; $B = [-3, -1]$

f) $A = (-3, +\infty)$; $B = (-\infty, -1]$

UNIDAD 2

ECUACIONES

INTRODUCCIÓN

Algunas igualdades entre expresiones algebraicas son ciertas, para todos los valores que demos a las letras, que intervienen en ellas.

Estas igualdades reciben el nombre de **identidades**.

Así por ejemplo: $3(x+5) = 3x + 15$ es una identidad, porque ambos miembros toman el mismo valor numérico para cualquier número que sustituya a “ x ”.

Mientras, que hay otras igualdades, que se verifican para algún o algunos valores de las letras, y se denominan **ecuaciones**.

Por ejemplo: $2x - 13 = 1$, obtenemos en ambos lados del signo igual el mismo valor numérico, sólo cuando x es igual a 7. Se trata por lo tanto de una “ecuación”.

Las soluciones de una ecuación son aquellos números que, cuando sustituyen a las letras de la ecuación, hacen que la igualdad sea verdadera.

ECUACIÓN LINEAL

A toda expresión algebraica de la forma $ax + b = 0$, donde a y b son números reales ($a \neq 0$), se la llama ecuación de primer grado en una incógnita, ecuación de grado 1 o simplemente ecuación lineal.

Ejemplos:

a) $x - 3 = 0$

b) $-\frac{7}{5} + 2x = 0$

c) $4x = 0$

ACTIVIDADES

1. Expresar en forma simbólica los siguientes enunciados.

a) **Distancia entre la Tierra y el Sol**

❖ El doble de la distancia entre la Tierra y el Sol.....

❖ El triplo de la distancia entre la Tierra y el Sol.....

❖ La tercera parte de la distancia entre la Tierra y el Sol.....

❖ La mitad de la distancia entre la Tierra y el Sol disminuida en 6×10^5 Km

b) **Grado (intensidad) de un sismo**

- ❖ El siguiente de dicho grado
- ❖ El grado más su cuadrado
- ❖ La suma del grado y de los dos que le siguen
- ❖ El doble del anterior a dicho grado
- ❖ El duplo del cuadrado del grado menos la cuarta parte de su sucesor.....

2. Determinar el valor de la incógnita en los casos que sea posible:

a) $2x + 8 = 5$

f) $\frac{x-1}{4} = \frac{2x}{-3}$

b) $-3x + 6 = 4$

g) $2(x + 2) + 3 = 4(1 - x)$

d) $\frac{y}{4} - \frac{7}{3}y = 5$

h) $x + \frac{x-1}{5} = 2x - \frac{3-x}{2}$

e) $\frac{\sqrt[3]{2x-4}}{8} = \frac{1}{4}$

i) $\frac{3x}{x-2} = 1 + \frac{6}{x-2}$

3. Resolver las siguientes situaciones problemáticas:

a) ¿Cuál es el número cuya tercera parte aumentada en $\frac{4}{5}$ del mismo, pero disminuida en 5 unidades, sobrepasa en 15 unidades el valor del número dado?

b) Ana y Marisa son mellizas. Luis tiene 4 años más que ellas y Juan la mitad de la edad de Luis. Si la suma de las edades es 41. ¿Qué edad tiene cada uno?

c) Dado un cuadrilátero ABCD, la medida del ángulo \hat{a} excede la medida del \hat{b} en 40° ; además el \hat{d} es el duplo del \hat{b} y también la mitad del \hat{c} . Obtener la medida de los ángulos.

ECUACION CUADRÁTICA

Una **ecuación cuadrática** en la variable x es una ecuación que puede escribirse de la siguiente forma:

$$ax^2 + bx + c = 0, \text{ donde } a, b \text{ y } c \text{ son constantes } (a \neq 0).$$

Una ecuación cuadrática también puede llamarse ecuación de segundo grado o de grado dos.

¿Cómo resolvemos esta ecuación?

Teniendo en cuenta la siguiente fórmula: $x_{1,2} = \frac{-b \pm \sqrt{b^2 - 4ac}}{2a}$, donde x_1 y x_2 se les denomina raíces de dicha ecuación (también llamados ceros de la ecuación) y determinan la solución de las mismas.

La expresión $b^2 - 4ac$ recibe el nombre de discriminante y se simboliza con la letra griega delta mayúscula Δ

$$\Delta = b^2 - 4ac$$

El discriminante sirve para clasificar las raíces de una ecuación cuadrática

Clasificación de las raíces en función del discriminante

- Si $\Delta = b^2 - 4ac > 0$ entonces la ecuación tiene dos raíces reales distintas.
- Si $\Delta = b^2 - 4ac = 0$ entonces la ecuación tiene dos raíces reales iguales.
- Si $\Delta = b^2 - 4ac < 0$ entonces la ecuación tiene dos raíces complejas conjugadas.

Ejemplo: Vamos a analizar las siguientes ecuaciones de segundo grado:

a) $x^2 - x - 6 = 0$

Su discriminante es: $\Delta = (-1)^2 - 4 \cdot 1 \cdot (-6) = 25 > 0$ es decir, esta ecuación tiene dos raíces reales distintas.

b) $3x^2 - 6x + 3 = 0$

Su discriminante es: $\Delta = (-6)^2 - 4 \cdot 3 \cdot 3 = 0$ es decir, esta ecuación tendrá dos raíces reales iguales.

c) $x^2 + 4 = 0$

Su discriminante es: $\Delta = 0^2 - 4 \cdot 1 \cdot 4 = -16$ es decir, esta ecuación tendrá dos raíces complejas conjugadas.

Ejercicio: Hallar las raíces de las ecuaciones anteriores para corroborar los resultados hallados.

ACTIVIDADES

1. Resolver las siguientes ecuaciones.

a) $x^2 - x - 2 = 0$

b) $x^2 - 3x = 10$

c) $(x + 1)(x - 2) = 0$

d) $3(x + 1)^2 = 27$

e) $2(x - 3)(x + 1) = x(x - 1) + 2$

f) $\sqrt{21x - 6} = 3x$

g) $\frac{x}{2} - \frac{3}{x} = \frac{1}{3}$

h) $x^2 = \frac{x + 3}{2}$

l) $\frac{x - 6}{3x + 2} = x - 2$

2. Observar e indicar cuáles son las raíces de la ecuación y cuál es el grado de la misma:

a) $\frac{2}{3}(x+4) \cdot (x+1) = 0$

b) $(x+2) \cdot \left(x - \frac{1}{3}\right) = 0$

c) $-5 \left(x + \frac{1}{2}\right) \cdot (x-5) = 0$

3. Se proyecta la construcción del salón de cómputos de la facultad. De acuerdo con las necesidades el mismo debe ser de forma cuadrada y tener una superficie de 169 m^2 . Determinar sus dimensiones.

Desigualdades e Inecuaciones

❖ Desigualdades

Una **desigualdad** es una expresión matemática que contiene cualquiera de los siguientes signos:

$\leq, \geq, <, >$

❖ Inecuaciones

Las **inecuaciones** son **desigualdades algebraicas** en la que sus dos miembros se relacionan por uno de estos signos:

$<$	menor que	$2x - 1 < 7$
\leq	menor o igual que	$2x - 1 \leq 7$
$>$	mayor que	$2x - 1 > 7$
\geq	mayor o igual que	$2x - 1 \geq 7$

La **solución** de una **inecuación** es el conjunto de valores de la variable que la verifica, y se puede expresar mediante:

1. Una representación gráfica.

2. Un intervalo.

- ❖ En general una inecuación tiene *infinitas* soluciones.
- ❖ El **grado** de las inecuaciones se define como el de las ecuaciones.
- ❖ **Resolver** una inecuación es hallar los valores que deben tomar sus variables para que se cumpla la desigualdad.

❖ Ejemplos de Inecuaciones de primer grado

(1) $2x - 1 < 7$


$2x < 8$

$x < 4$




Solución: $(-\infty, 4)$

(2) $2x - 1 > 7$ $2x > 8$ $x > 4$



Solución: $(4, \infty)$

(3) $2x - 1 \geq 7$ $2x \geq 8$ $x \geq 4$




Solución: $[4, \infty)$

Otros ejemplos:

a) Resolver: $2(x + 1) + 3 \leq 5(x + 2) - 2$

- Resolver los paréntesis: $2x + 2 + 3 \leq 5x + 10 - 2$
- Agrupar los términos semejantes: $5 \leq 5x - 2x + 8 \Leftrightarrow 5 - 8 \leq 3x \Leftrightarrow -3/3 \leq x \Leftrightarrow -1 \leq x$
- La solución es el conjunto de puntos del intervalo $[-1, +\infty)$

Gráficamente:



b) Una empresa de alquiler de coches cobra \$ 50 fijos más \$ 2.50 por kilómetro recorrido. Otra competidora no tiene canon fijo, pero carga \$5 por kilómetro. ¿A partir de qué distancia nos resulta más económica la primera?

- Llamando x: kilómetros a recorrer, se tiene que calcular cuando el costo de la primera es menor que el de la segunda, es decir:
- Se tiene costo de la primera: $50 + 2.5x$
- Se tiene costo de la segunda: $5x$
- Luego, $50 + 2.5x < 5x$
- De donde $50 < 5x - 2.5x \Leftrightarrow x < 20$
- La primera opción nos interesa para recorridos mayores a los 10 km.

ACTIVIDAD: Encontrar el intervalo solución de las siguientes inecuaciones:

a) $2x - \frac{1}{2} \geq -\frac{1}{2}x$

b) $9 < 3 + 2x < 13$

c) $x^2 - (3x + 1) < (x - 1)(x + 2)$

VALOR ABSOLUTO

Dado un número real x , se llama **valor absoluto de x** , y se simboliza $|x|$ al número real positivo dado por:

$$|x| = x, \text{ si el número } x \text{ es positivo o cero}$$

$$|x| = -x, \text{ si el número } x \text{ es negativo}$$

Ejemplos:

a) $|8| = 8$

b) $|-1,6| = 1,6$

c) $|0| = 0$

d) $|5 - 9| = |-4| = 4$

Observación: El valor absoluto de un número x define la distancia del número x y el número 0, por ello el valor absoluto siempre es positivo.

PROPIEDADES

❖ $|x| = a$ si y sólo si $x = a$ ó $x = -a$

❖ $|x| \leq a$ si y sólo si $-a \leq x \leq a$

❖ $|x| \geq a$ si y sólo si $x \leq -a$ ó $x \geq a$

❖ $\sqrt{x^2} = |x|$ (**IMPORTANTE**)

❖ $\left| \frac{x}{y} \right| = \frac{|x|}{|y|}$

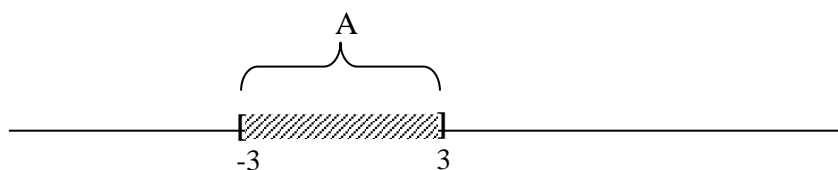
Ejemplos:

Determinar el conjunto que representa cada una de las siguientes expresiones:

a) $|x| \leq 3$

De acuerdo con la **propiedad correspondiente** del valor absoluto, se tiene:

$$|x| \leq 3 \text{ sii } -3 \leq x \leq 3 \text{ es decir, son los valores de } x \in [-3, 3]$$



b) $|x| \geq \frac{1}{2}$

De acuerdo a la **propiedad correspondiente** del valor absoluto, se tiene:

$$|x| \geq \frac{1}{2} \text{ sii } x \geq \frac{1}{2} \text{ ó } x \leq -\frac{1}{2} \text{ es decir, son los valores de } x \in (-\infty, -1/2] \cup [1/2, +\infty)$$

c) $|x-2| \leq 3$

De acuerdo a la **propiedad correspondiente** del valor absoluto, se tiene:

$$|x-2| \leq 3 \text{ sii } -3 \leq x-2 \leq 3 \text{ sii } -3+2 \leq x \leq 3+2 \text{ sii } -1 \leq x \leq 5, \text{ es decir, son los valores de}$$

$$x \in [-1, 5]$$

ACTIVIDADES

1. Resolver las siguientes desigualdades y representar gráficamente el conjunto solución:

a) $|x + 3| < 5$

d) $\left| \frac{2+3x}{3} \right| < 1$

b) $|1 - 3x| > 3$

e) $\left| \frac{1-3x}{2} \right| > 2$

c) $\left| 2x - \frac{1}{2} \right| < 3$

f) $\left| \frac{6}{-2x+3} \right| \geq 1$

2. Determinar los siguientes conjuntos y expresarlos, si es posible, como intervalos:

a) $A = \{x / x \in \mathbf{Z} \text{ y } |x - 2| = 3\}$

b) $D = \{x / x \in \mathbf{R} : |2x - 1| < 3\} \cup \{x / x \in \mathbf{N} \text{ y } |x + 1| = 3\}$

c) $G = \{x / x \in \mathbf{Z} : |2x| < 5\} \cup \{x / x \in \mathbf{N} : 5 - x^2 > 4\}$

SISTEMAS DE ECUACIONES LINEALES CON DOS INCOGNITAS

Téngase en cuenta, la siguiente situación:

“El doble del número x , más el número y , es igual a 7. La diferencia entre x e y es igual a 2”

La traducción al lenguaje simbólico de la situación planteada es:
$$\begin{cases} 2x + y = 7 \\ x - y = 2 \end{cases}$$

Lo que se acaba de escribir, representa un sistema de dos ecuaciones lineales con dos incógnitas, lo definiremos de la siguiente forma:

Un sistema de dos ecuaciones lineales con dos incógnitas es un par de ecuaciones lineales que se suelen representar de la siguiente forma:

$$\begin{cases} a_1x + b_1y = c_1 \\ a_2x + b_2y = c_2 \end{cases}$$

Donde:

- ❖ x e y son los números reales llamados **incógnitas**,
- ❖ a_1 , b_1 , a_2 y b_2 son los números reales llamados **coeficientes**
- ❖ c_1 y c_2 son los números reales llamados **términos independientes**.

Los sistemas de ecuaciones ayudan, por lo tanto, a plantear y resolver problemas parecidos al redactado en el párrafo anterior.

El par de números (x, y) que satisface ambas ecuaciones de un sistema se llama **solución** del sistema de ecuaciones.

Clasificación de sistemas lineales

1. Sistema **compatible**: es el que tiene solución.

Dependiendo del número de soluciones puede ser:

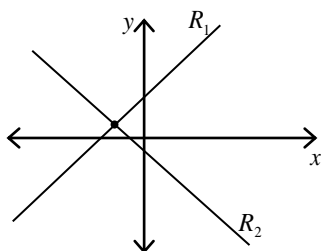
- ❖ Sistema **compatible determinado** si tiene una única solución.
- ❖ Sistema **compatible indeterminado** si tiene múltiples (infinitas) soluciones.

2. Sistema **incompatible**: es el que no tiene solución.

Importante:

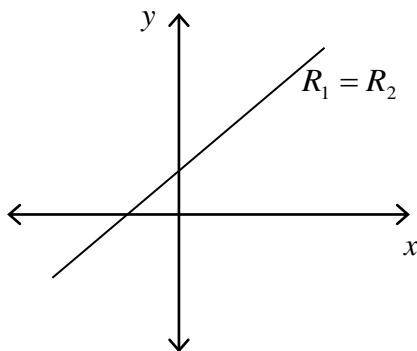
Un sistema de dos ecuaciones con dos incógnitas, gráficamente representa el dibujo de dos rectas en el plano. Por lo tanto, puede ocurrir:

❖ Caso *a*: **Que las dos rectas se corten en un único punto.** *Sistema Compatible Determinado*



Esto indica que: El sistema dado tiene solución única. Dicha solución son las coordenadas del punto de corte.

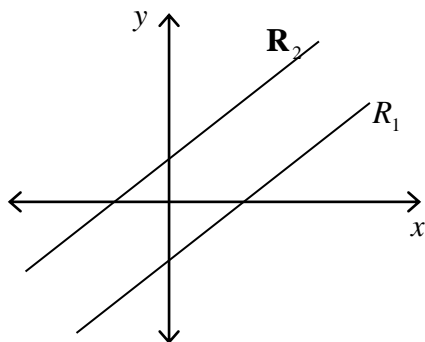
❖ Caso *b*: **Que las dos rectas estén superpuestas (o sea coincidentes).** *Sistema Compatible Indeterminado*



Esto indica que el conjunto solución estará formado por infinitos pares (x,y).

Luego el sistema dado tiene infinitas soluciones.

❖ Caso *c*: **Que las dos rectas sean paralelas (no coincidentes).** *Sistema Incompatible*



Luego se observa que no existen pares (x, y) que satisfagan a las dos rectas simultáneamente.

En consecuencia, el conjunto solución, será un conjunto vacío.

Esto indica que el sistema dado no tiene solución.

A continuación, se analiza el método de sustitución, el método de igualación (analíticos) y el método gráfico para resolver un sistema de dos ecuaciones lineales con dos incógnitas (hay otros métodos analíticos de los cuales puede hacer uso).

❖ MÉTODO DE SUSTITUCIÓN

Para aplicar este método debe tener en cuenta los siguientes pasos:

Paso 1: De alguna de las ecuaciones del sistema despejar una de las incógnitas.

Paso 2: La variable despejada se reemplaza en la otra ecuación del sistema. De esta forma se obtiene una “ecuación lineal con una incógnita”.

Paso 3: Resuelva esta última ecuación, obteniendo así, el valor numérico de una de las incógnitas.

Paso 4: Retomando la expresión del Paso 1, reemplazar en ella el valor numérico de la incógnita, obtenido en el Paso 3. Resuélvala.

Paso 5: Obtuvo así la solución del sistema; (si es que el sistema planteado tenía solución única, en caso contrario, tendrá algunos inconvenientes en la aplicación del método).

Se aplica esta técnica al sistema planteado anteriormente.

$$\begin{cases} 2x + y = 7 & \textcircled{1} \\ x - y = 2 & \textcircled{2} \end{cases}$$

Paso 1: De la ecuación $\textcircled{1}$ despejamos: $y = -2x + 7$

Paso 2: La expresión de “y” se reemplaza en $\textcircled{2}$

$$\begin{aligned} x - (-2x + 7) &= 2 \\ x + 2x - 7 &= 2 \\ 3x &= 2 + 7 \end{aligned}$$

Paso 3: Se resuelve esta última ecuación lineal de una incógnita:

$$\begin{aligned} 3x &= 9 \\ x &= \frac{9}{3} \Rightarrow \boxed{x = 3} \end{aligned}$$

Paso 4: Retomando la expresión del Paso 1, $y = -2x + 7$; reemplazamos en ella el valor de $x = 3$ (obtenido en el Paso 3).

$$y = -2 \cdot 3 + 7 \Rightarrow \boxed{y = 1}$$

Paso 5: **Se obtuvo la única solución para este sistema: $(x, y) = (3, 1)$.**

$$\text{Verificamos: } \begin{cases} 2x + y = 7 \\ x - y = 2 \end{cases} \Rightarrow \begin{cases} 2 \cdot 3 + 1 = 7 \Rightarrow 7 = 7 \\ 3 - 1 = 2 \Rightarrow 2 = 2 \end{cases}$$

❖ MÉTODO DE IGUALACIÓN

Para aplicar este método debe tener en cuenta los siguientes pasos:

Paso 1: Despejar la misma incógnita de cada ecuación.

Paso 2: Igualar las expresiones obtenidas y de esta forma se obtiene una “ecuación lineal con una incógnita”.

Paso 3: Resolver esta última ecuación, obteniendo así, el valor numérico de una de las incógnitas.

Paso 4: Retomando la expresión del Paso 1, reemplazar en ella el valor numérico de la incógnita, obtenido en el Paso 3. Resuélvala.

Paso 5: Obtuvo así la solución del sistema; (si es que el sistema planteado tenía solución única, en caso contrario, tendrá algunos inconvenientes en la aplicación del método).

Se aplica esta técnica al sistema planteado anteriormente.

$$\begin{cases} 2x + y = 7 & \textcircled{1} \\ x - y = 2 & \textcircled{2} \end{cases}$$

Paso 1: De la ecuación $\textcircled{1}$ y $\textcircled{2}$ despejamos la variable y : $y = -2x + 7$ e $y = x - 2$

Paso 2: Igualamos las expresiones obtenidas y de esta forma se obtiene una “ecuación lineal con una incógnita”.

$$-2x + 7 = x - 2$$

$$7 + 2 = x + 2x$$

Paso 3: Se resuelve esta última ecuación lineal de una incógnita:

$$3x = 9$$

$$x = \frac{9}{3} \Rightarrow \boxed{x = 3}$$

Paso 4: Retomando una de las expresiones del Paso 1, $y = -2x + 7$; reemplazamos en ella el valor de $x = 3$ (obtenido en el Paso 3).

$$y = -2 \cdot 3 + 7 \Rightarrow \boxed{y=1}$$

Paso 5: Se obtuvo la única solución para este sistema: $(x, y) = (3,1)$.

$$\text{Verificamos: } \begin{cases} 2x + y = 7 \\ x - y = 2 \end{cases} \Rightarrow \begin{cases} 2 \cdot 3 + 1 = 7 \Rightarrow 7 = 7 \\ 3 - 1 = 2 \Rightarrow 2 = 2 \end{cases}$$

❖ MÉTODO GRÁFICO

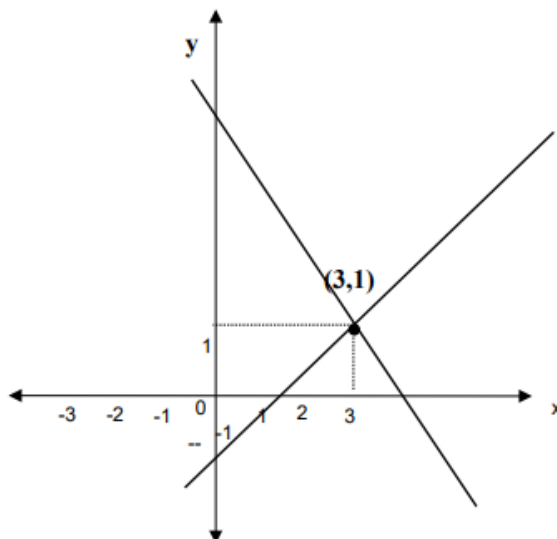
Básicamente consiste en: graficar cada una de las rectas que representan al conjunto solución de las ecuaciones del sistema, y analizar sus posiciones.

Importante:

Es conveniente, resolver previamente en forma gráfica el sistema dado, para analizar qué tipo de solución nos espera, y luego aplicar un método analítico para justificar y confirmar lo hallado gráficamente. Ejemplo: Resolver en forma gráfica el sistema planteado anteriormente.

$$\text{Esto es: } \begin{cases} 2x + y = 7 \\ x - y = 2 \end{cases} \text{ o en forma equivalente } \begin{cases} y = -2x + 7 \\ y = x - 2 \end{cases}$$

Se representan gráficamente en un mismo sistema ambas rectas:

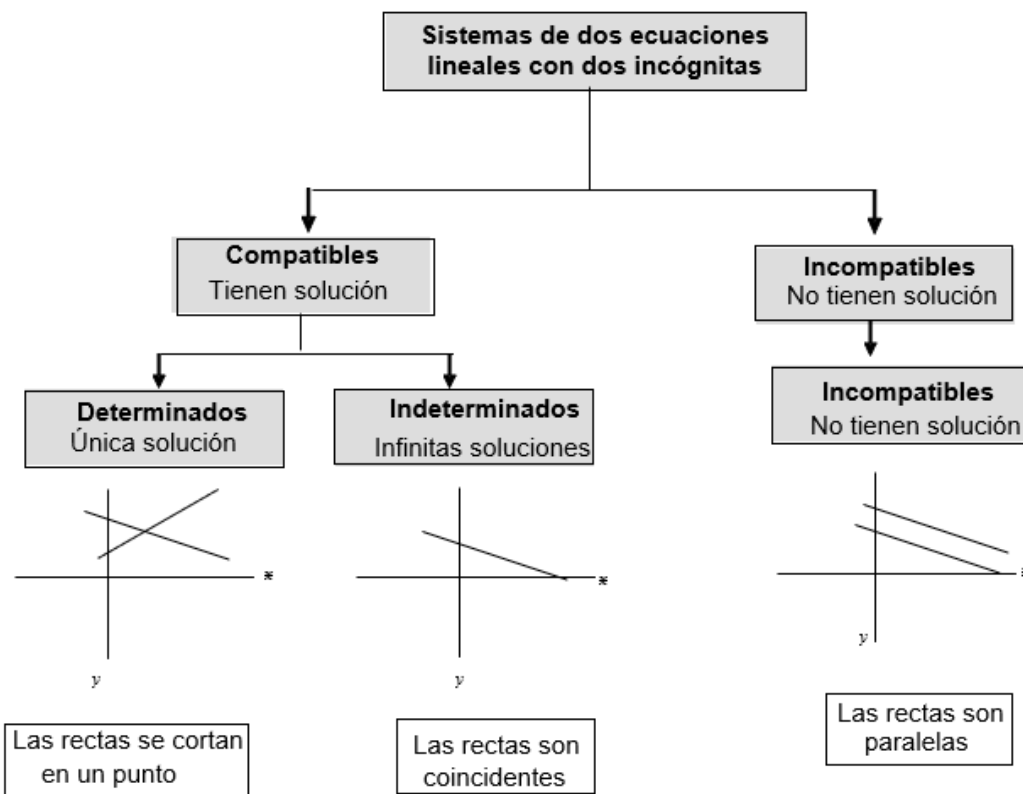


Se observa que las dos rectas se cortan en un único punto de coordenadas $(3,1)$. Por lo tanto, el sistema tiene solución única dada por el punto $(x, y) = (3,1)$.

Observaciones:

1. Cualquiera sea el método que aplique para resolver un sistema de ecuaciones lineales, el conjunto solución es el mismo en todos los casos.

2. Antes de aplicar cualquier procedimiento algebraico es conveniente realizar primero la representación gráfica de las ecuaciones del sistema para determinar si el sistema tiene o no solución y si tiene solución establecer si es única o no.
3. En el siguiente cuadro se presenta una clasificación de los sistemas de ecuaciones lineales.



ACTIVIDADES

1. Resolver en forma analítica y gráfica los siguientes sistemas. Indicar el tipo de solución (en caso de que la tenga).

- $$\begin{cases} 2x - 1 = y \\ -x + 2y = 7 \end{cases}$$
- $$\begin{cases} x + 3 = 2y \\ -2x + 4y = 6 \end{cases}$$
- $$\begin{cases} 4x = 10 - 3y \\ 12x = 10 - 9y \end{cases}$$

2. Resolver las siguientes situaciones problemáticas.

- a) La suma de dos números es 28 y su diferencia es 8 ¿Cuáles son dichos números?
- b) La edad de Juan es el quintuplo de la edad de Carlos y la suma de ambas es 78 ¿Qué edad tiene cada uno?
- c) Si se aumenta en 2cm el largo y el ancho de un rectángulo, el perímetro es 24cm. Si el largo se disminuye en 2cm resultará un cuadrado ¿Cuáles son las dimensiones del rectángulo?

UNIDAD 3

Expresiones algebraicas

Introducción

Desde sus remotos orígenes arraigados en Egipto, Arabia y la India veinte siglos antes de nuestra era, el álgebra ha sido considerada un método de expresión mediante fórmulas que permiten simplificar los cálculos numéricos. En ese entonces los problemas algebraicos aparecen formulados y resueltos de una manera verbal. Los polinomios, se han aplicado recientemente en la transmisión de la información. Durante los últimos años, el tráfico de datos por medio de las “carreteras” de la información ha crecido enormemente. Se pretende aumentar las velocidades de transmisión y conservar al mismo tiempo la integridad de los datos. Un método desarrollado para tal fin es el pet (transmisión codificada con prioridades). Con él la información se distribuye en diferentes paquetes. Esta distribución se determina con base en polinomios.

Llamamos **Expresión Algebraica Real** a toda combinación de letras y/o números reales vinculados entre sí por las operaciones de suma, resta, multiplicación y potenciación de exponente racional.

Ejemplos:

Son expresiones algebraicas

a) $V = \frac{1}{3} \pi r^2 h$, es una expresión algebraica en las variables r y h.

b) $10 - 3 \sqrt[5]{y} + \frac{5}{7 + y^2}$ es una expresión algebraica en la variable y.

c) $(a + b)^3 - 3a - 12a \cdot b^2$ es una expresión algebraica en las variables a y b.

Algunas expresiones algebraicas en particular, con las que se trabajará en esta sección, reciben el nombre de **polinomios** y se caracterizan en que sus variables están afectadas por las operaciones de suma, resta, producto y potencia de exponente entero no negativo.

Polinomios

Un **polinomio de grado n**, en la indeterminada x es una expresión algebraica de la forma:

$$P(x) = a_n x^n + a_{n-1} x^{n-1} + \dots + a_2 x^2 + a_1 x + a_0, \quad a_n \neq 0$$

En el cual:

- $a_n, a_{n-1}, \dots, a_2, a_1, a_0$, son números reales denominados: **coeficientes**.
- x es una variable denominada: **variable real**.
- n es un número natural que indica el **grado del polinomio**.

Para tener en cuenta:

- Si el polinomio es de grado cero, se llama polinomio **constante**.
- El coeficiente de la mayor potencia de x se llama **coeficiente principal**.
- Si el coeficiente principal es 1, el polinomio se dice **mónico**.
- El coeficiente a_0 se llama **término independiente**.
- El polinomio de un solo término (no nulo) se llama **monomio**, el de dos (no nulos), **binomio**, etc.
- Dos monomios son semejantes si tienen la misma parte literal.
- Si al polinomio no le faltan términos se lo llama **polinomio completo**.
- El polinomio puede estar **ordenado** (en forma creciente o decreciente), o **desordenado**.
- Si todos los coeficientes son nulos, incluso a_0 , el polinomio no tiene grado y se llama **polinomio nulo**.
- Dos polinomios son **iguales** si sus monomios semejantes son iguales

ACTIVIDADES

1. Decir si las siguientes expresiones son polinomios, en caso de no serlo indicar porqué.

a) $P(x) = 5x^6 - \sqrt{3}x^4 - 2x + x^2$

b) $Q(x) = 2x^3 + 9x^2 + 8x^{-1} + 5$

c) $R(x) = 3\sqrt{x} + 5x - 6$

2. Indicar el grado de cada uno de los siguientes polinomios:

a) $P(x) = x^2 + 3x - 4$

b) $P(x) = x^4 + 5x^7 - 4x$

c) $P(x) = x^2 + 3x - 4x^3 + 2$

3. Indicar si los polinomios están completos, ordenados o ambos. En caso de no estarlo escribirlos completos y ordenados en forma decreciente.

a) $P(x) = 3x - 4 + x^2$

b) $P(x) = x^3 + 3x^5 - 2$

Valor numérico de un polinomio

Dado un polinomio $P(x)$, al sustituir la variable x por un número a se obtiene un número que se denota $P(a)$ y que es el **valor numérico** de $P(x)$ para $x = a$.

Ejemplo: Encontrar el valor numérico del polinomio $P(x) = x^2 + 3x - 4$ para $x = 2$

$$P(2) = 2^2 + 3 \cdot 2 - 4 = 6$$

Se dice que a es raíz del polinomio $P(x)$ si y sólo si $P(a) = 0$.

ACTIVIDADES

Hallar el valor numérico de los siguientes polinomios e indicar si es raíz.

a) $P(x) = x^2 + 3x - 4$, para $x = 1$

b) $P(x) = x^2 + 3x - 4x^3 + 2$, para $x = 0$

Operaciones con polinomios

Para operar con polinomios resulta conveniente completarlos y ordenarlos en forma decreciente, aunque para la suma (resta) y producto no es imprescindible.

Suma (resta) de Polinomios

La suma (resta) de dos polinomios es otro polinomio que se obtiene sumando (restando) los monomios semejantes.

Ejemplos:

Sean $P(x) = 2x^4 - x^3 + x$ y $Q(x) = x^3 - 5x^4 - x^2 + 7$, determinar:

a) $P(x) + Q(x)$

b) $P(x) - Q(x)$

a) Completando y ordenando los polinomios y ubicándolos de manera que resulten encolumnados los monomios semejantes, resulta:

$$\begin{array}{r}
 P(x) \quad 2x^4 - x^3 + 0x^2 + x + 0 \\
 + \\
 Q(x) \quad -5x^4 + x^3 - x^2 + 0x + 7 \\
 \hline
 P(x) + Q(x) \quad -3x^4 + 0x^3 - x^2 + x + 7
 \end{array}$$

b) $P(x) \quad 2x^4 - x^3 + 0x^2 + x + 0$

$Q(x) \quad -5x^4 + x^3 - x^2 + 0x + 7$

$$\begin{array}{r}
 P(x) - Q(x) \quad 7x^4 - 2x^3 + x^2 + x - 7
 \end{array}$$

Multiplicación de Polinomios

Para multiplicar dos polinomios se aplica la propiedad distributiva del producto respecto de la suma y luego se suman los monomios semejantes.

Ejemplo:

Dados los polinomios $R(x) = 2x^4 - x^3 + x$ y $S(x) = -5x^4 + x^3 - x^2 + 7$, obtener $R(x) \cdot S(x)$

En efecto:

$$\begin{aligned} R(x) \cdot S(x) &= (2x^4 - x^3 + x) \cdot (-5x^4 + x^3 - x^2 + 7) = \\ &= -10x^8 + 5x^7 - 5x^5 + 2x^7 - x^6 + x^4 - 2x^6 + x^5 - x^3 + 14x^4 - 7x^3 + 7x = \\ &= -10x^8 + 7x^7 - 3x^6 - 4x^5 + 15x^4 - 8x^3 + 7x \end{aligned}$$

Productos Especiales:**Cuadrado de un binomio**

"El cuadrado de un binomio es siempre un trinomio, llamado trinomio cuadrado perfecto, formado por el cuadrado del primer término más el duplo del primero por el segundo más el cuadrado del segundo término".

$$(a \pm b)^2 = a^2 \pm 2.a.b + b^2$$

Ejemplo:

Sea $A(x) = 5 + x$, determinar $A(x) \cdot A(x)$ es lo mismo que $[A(x)]^2$

$$\begin{aligned} A(x) \cdot A(x) &= (5 + x)(5 + x) = 25 + 5x + 5x + x^2 = 25 + 10x + x^2 = [A(x)]^2 \\ &\quad \begin{array}{ccc} \downarrow & \downarrow & \downarrow \\ 5^2 & 2 \cdot 5 \cdot x & x^2 \end{array} \end{aligned}$$

Aplicando la propiedad, resulta:

$$[A(x)]^2 = 5^2 + 2 \cdot 5 \cdot x + x^2 = 25 + 10x + x^2$$

Cubo de un binomio

"El cubo de un binomio es siempre un cuatrinomio, llamado cuatrinomio cubo perfecto, formado por el cubo del primer término más el triplo del cuadrado del primero por el segundo, más el triplo del primero por el cuadrado del segundo, más el cubo del segundo término."

$$(a \pm b)^3 = a^3 \pm 3.a^2.b + 3.a.b^2 \pm b^3$$

Ejemplo:

Sea $B(x) = 2 + x$, determinar $B(x) \cdot B(x) \cdot B(x) = [B(x)]^3$

$$\begin{aligned} B(x) \cdot B(x) \cdot B(x) &= (2 + x) \cdot (2 + x) \cdot (2 + x) = (4 + 4x + x^2) \cdot (2 + x) = \\ &= 8 + 8x + 2x^2 + 4x + 4x^2 + x^3 = 8 + 12x + 6x^2 + x^3 = [B(x)]^3 \\ &\quad \begin{array}{cccc} \downarrow & \downarrow & \downarrow & \downarrow \\ 2^3 & 3 \cdot 2^2 \cdot x & 3 \cdot 2 \cdot x^2 & x^3 \end{array} \end{aligned}$$

Aplicando la propiedad, resulta: $[B(x)]^3 = 2^3 + 3 \cdot 2x^2 + 3 \cdot 2^2x + x^3 = 8 + 12x + 6x^2 + x^3$

Caso particular (Diferencia de cuadrados)

“El producto de la suma por la diferencia de dos términos es igual a la diferencia de los cuadrados de ambos”, es decir

$$(a + b) \cdot (a - b) = a^2 - b^2$$

Ejemplo:

Sea $R(x) = x - 2$ y $P(x) = x + 2$, entonces $R(x) \cdot P(x) = (x - 2)(x + 2)$

Aplicando la propiedad: $R(x) \cdot P(x) = (x - 2)(x + 2) = x^2 - 4$

O por producto de binomios, tenemos: $R(x) \cdot P(x) = (x - 2)(x + 2) = x^2 + 2x - 2x - 4 = x^2 - 4$

División de un polinomio por un polinomio cualquiera

Dividir un polinomio $D(x)$ (dividendo) por otro polinomio $Q(x)$ (divisor) de grado menor o igual que $D(x)$, es obtener dos polinomios: $C(x)$ (cociente) y $R(x)$ (resto), únicos, tal que:

$$D(x) = Q(x) \cdot C(x) + R(x)$$

$$\frac{D(x)}{Q(x)} = C(x) + \frac{R(x)}{Q(x)}$$

Estas igualdades provienen de efectuar la división:

$$\begin{array}{r} D(x) \quad \bigg| \quad Q(x) \\ \hline R(x) \quad C(x) \end{array}$$

Tener en cuenta que: La división se realiza empleando el mismo algoritmo que se utiliza para dividir números reales. Es imprescindible antes de efectuar la división completar y ordenar en forma decreciente el polinomio $D(x)$. Mientras que el polinomio $Q(x)$ sólo debe estar ordenado en forma decreciente

Ejemplo:

Sean $D(x) = 4x^4 - 1 + 3x - 5x^2$ y $Q(x) = -x + 2x^2 + 1$, calcular $D(x) : Q(x)$

Se ordenan ambos polinomios y se completa $D(x)$.

$$\begin{array}{r}
 4x^4 + 0x^3 - 5x^2 + 3x - 1 \\
 \hline
 + 2x^3 - x^2 + x \\
 \hline
 4x^4 - 2x^3 + 2x^2 \\
 \hline
 0x^4 + 2x^3 - 7x^2 + 3x - 1 \\
 \hline
 + 2x^3 - x^2 + x \\
 \hline
 0x^3 - 6x^2 + 2x - 1 \\
 \hline
 - 6x^2 + 3x - 3 \\
 \hline
 0x^2 - 1x + 2
 \end{array}$$

Luego: $C(x) = 2x^2 + x - 3$ y $R(x) = -x + 2$

Caso particular de división de polinomios cuando el divisor sea un binomio de la forma: $Q(x) = (x - a)$ o $Q(x) = (x + a)$

En este caso es posible aplicar el método conocido como: “Regla de Ruffini”.

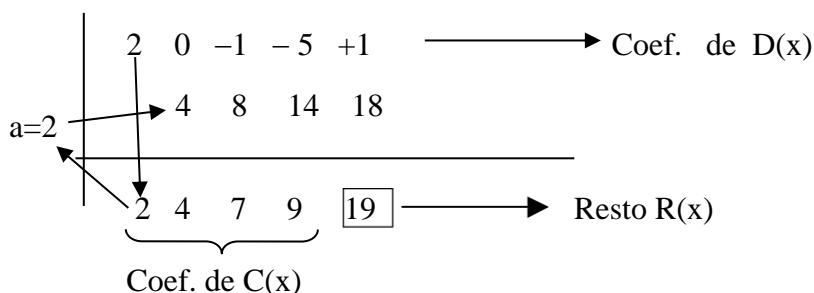
Ejemplo de aplicación de la Regla de Ruffini.

Sean $D(x) = 2x^4 + 1 - 5x - x^2$ y $Q(x) = x - 2$, calcular $D(x) \div Q(x)$.

- 1) En primer lugar, hay que completar y ordenar en forma decreciente el polinomio

$$D(x) = 2x^4 + 0x^3 - x^2 - 5x + 1$$

- 2) Proceder como se indica en el siguiente esquema:



El grado del polinomio cociente es un grado menor que el grado de $D(x)$, por lo tanto:

$$\text{Cociente: } C(x) = 2x^3 + 4x^2 + 7x + 9 \quad \text{y} \quad \text{Resto: } R(x) = 19$$

- ❖ Al dividir $D(x)$ en $Q(x)$ por el algoritmo de la división, $D(x)$ resulta:

$$D(x) = C(x) \cdot Q(x) + R(x)$$

- ❖ Si el resto $R(x) = 0$, entonces $D(x) = C(x) \cdot Q(x)$; esto indica que $D(x)$ es divisible por $Q(x)$.

TEOREMA DEL RESTO

El valor numérico que toma el polinomio $D(x)$ en $x = a$, es decir $D(a)$, coincide con el resto de dividir $D(x)$ por $(x-a)$

$$D(x) \begin{array}{l} | \\ \hline x - a \\ \hline \end{array} \\ \mathbf{R = D(a)} \quad \mathbf{C(x)}$$

El teorema anterior es de gran utilidad pues nos permite asegurar que:

Si $x = a$ es raíz de $D(x)$ entonces $D(x)$ es divisible por $x - a$

ACTIVIDADES

1. Colocar Verdadero ó Falso según corresponda, justificar

a) $3x^2 - x^2 + 1 = 1 + 2x^2$

b) $x^3 + 1 = x^0 - 2x^3 + 3x^3$

c) $-5x^0 + \frac{1}{2}x + 2 = 3 + 0,5x$

2. Sean los polinomios: $M(x) = 3x^2 - 5x - 3$; $N(x) = x^2 + 1$; $K(x) = x - 1$. Calcular:

a) $2M(x) + 4N(x) + 3K(x)$	e) $M(x) : K(x)$
b) $M(x) - 2N(x)$	f) $M(x) \cdot 2K(x)$
c) $M(x) \cdot N(x)$	g) $[M(x)]^2$
d) $M(x) : N(x)$	h) $[N(x)]^3$

3. Aplicar la regla de Ruffini para calcular las siguientes divisiones y verificar el resto por el teorema de resto.

a) $P(x) = 7x^3 - 11x^2 - 12x + 45$, $Q(x) = x - 3$

b) $P(x) = x^2 + 4x + 6$, $Q(x) = x + 2$

4. Indicar, sin realizar la división, si los siguientes polinomios son divisibles:

a) $P(x) = x^3 + 1$; $Q(x) = x - 1$

b) $P(x) = x^2 + 6x + 9$; $Q(x) = x + 3$

Factorización de polinomios

¿Qué es factorizar un polinomio?

Factorizar o factorizar un polinomio significa escribirlo como producto de factores (cada factor es un polinomio irreducible).

¿Cómo se hace?

Para factorizar un polinomio es necesario recordar algunos casos sencillos de factorización de polinomios:

Factor Común

Sacar o extraer factor común significa identificar en todos los términos del polinomio dado aquellos factores que se repiten, agruparlos y expresar el polinomio original como producto de un monomio, constituido por los factores comunes, por un polinomio con términos en los que faltan los factores presentes en el monomio.

Ejemplos:

a) Dado $P(x) = 27x^3 + 3x^2 - 6x^4$

Es fácil ver que todos los números son divisibles por 3 y que las letras son divisibles por x^2 , por lo tanto $3x^2$ es el factor común a todos los términos, luego extraemos $3x^2$ y queda el polinomio factoreado de la siguiente forma: $P(x) = 3x^2(9x + 1 - 2x^2)$

b) Dado $R(x) = 8b^5x^2y^3 - 6b^2c^3yz - 2b^4c^4xy^2z^2$, factorizado queda
 $R(x) = 2b^2y(4b^3x^2y^2 - 3c^3z - b^2c^4xy^2z^2)$

Trinomio Cuadrado Perfecto

Al estudiar el cuadrado de un binomio se obtuvo como resultado un trinomio, llamado trinomio cuadrado perfecto:

$$P(x) = (x \pm a)^2 = x^2 \pm 2xa + a^2$$

Para saber si un trinomio es un cuadrado perfecto, se debe analizar:

1. Si dos de los términos son cuadrados perfectos, y en ese caso hay que buscar sus bases.
2. Si el término restante es el doble producto de las bases.

Ejemplo:

$$\begin{array}{ccc}
 P(x) = x^2 - 10x + 25 & & \\
 \downarrow & \uparrow & \downarrow \\
 (x)^2 & & (5)^2 \\
 & 2 \cdot x \cdot 5 = 10x &
 \end{array}$$

Por lo tanto: $x^2 - 10x + 25 = (x - 5)^2$

Diferencia de Cuadrados

Si el polinomio dado es un binomio con ambos términos cuadrados perfectos, y uno de ellos es negativo, entonces se podrá factorizar como el producto de la suma por la diferencia de las bases de esos cuadrados.

$$P(x) = x^2 - a^2 = (x + a) \cdot (x - a)$$

Ejemplos:

a) Sea $P(x) = 9 - x^2$

Las bases son: $9 = (3)^2$

$$x^2 = (x)^2$$

Luego el polinomio quedará factoreado: $P(x) = 9 - x^2 = (3 + x) \cdot (3 - x)$

b) Sea $R(s) = (-9s^2 + 4t^2) = (4t^2 - 9s^2) = (2t - 3s) \cdot (2t + 3s)$

$$\text{pues } 4t^2 = (2t)^2 \text{ y } 9s^2 = (3s)^2$$

Teorema Fundamental del Álgebra. Factorización por medio de raíces

Todo polinomio de grado n tiene a lo sumo n raíces.

Por lo tanto es posible factorizar el polinomio $P(x)$ de grado n , de la siguiente manera:

Si $P(x) = a_n x^n + a_{n-1} x^{n-1} + \dots + a_2 x^2 + a_1 x + a_0$ tiene n raíces x_1, x_2, \dots, x_n entonces

$$P(x) = a_n (x - x_1) \cdot (x - x_2) \cdot \dots \cdot (x - x_{n-1}) \cdot (x - x_n), \text{ con } a_n \text{ coeficiente principal.}$$

Ejemplo:

Sea el polinomio $P(x) = x^3 - 2x^2 - 5x + 6$ sus raíces son: $x_1 = 1, x_2 = 3, x_3 = -2$

Según el Teorema Fundamental del Álgebra quedará factorizado:

$$P(x) = x^3 - 2x^2 - 5x + 6 = 1 \cdot (x - 1) \cdot (x - 3) \cdot (x - (-2)) = (x - 1) \cdot (x - 3) \cdot (x + 2)$$

El Teorema anterior es de gran utilidad, siempre que se conozcan las raíces del polinomio.

La pregunta es entonces,

¿Cómo determinar las raíces en distintos polinomios?

A continuación se presentan las formas de factorizar un polinomio aplicando el Teorema Fundamental del Álgebra de acuerdo al número de raíces que posee dicho polinomio, en concordancia con su grado.

❖ Para un polinomio de primer grado (lineal) $P(x) = ax + b$

Raíces de polinomios de primer grado

Si el polinomio es de la forma: $P(x) = ax + b$, con $a \neq 0$, para determinar la raíz igualamos el polinomio a cero, o sea $P(x) = 0$, y “despejamos” x .

Luego el polinomio factorizado queda:

$$P(x) = a(x - x_1)$$

Ejemplo:

Factorizar $P(x) = 2x - 5$ utilizando el Teorema anterior.

Para encontrar su raíz igualamos a cero y “despejamos” x , es decir: $2x - 5 = 0$.

Sumando 5 a ambos miembros, tenemos: $2x = 5$.

Dividiendo miembro a miembro por 2, resulta $x = \frac{5}{2}$

Luego $x = \frac{5}{2}$ es raíz de $P(x) = 2x - 5$.

El polinomio $P(x)$ factorizado queda: $P(x) = 2(x - \frac{5}{2})$.

❖ Para un polinomio de segundo grado $P(x) = ax^2 + bx + c$

Raíces de polinomios de segundo grado

Si el polinomio es de la forma: $P(x) = ax^2 + bx + c$, con $a \neq 0$, para determinar las dos raíces igualamos el polinomio a cero, o sea $P(x) = 0$

$$ax^2 + bx + c = 0$$

Para encontrar los valores de x que verifican esta igualdad se usa la conocida fórmula:

$$x_{1,2} = \frac{-b \pm \sqrt{b^2 - 4ac}}{2a}$$

Estos valores x_1, x_2 pueden ser números reales y distintos, números reales e iguales y números imaginarios.

Luego el polinomio factorizado queda:

$$P(x) = a(x - x_1)(x - x_2)$$

Ejemplo: Dado el polinomio $P(x) = x^2 - 5x + 6$, determinar las raíces y factorizarlo.

$$x_{1,2} = \frac{-b \pm \sqrt{b^2 - 4ac}}{2a} = \frac{5 \pm \sqrt{25 - 4 \cdot 1 \cdot 6}}{2} = \frac{5 \pm 1}{2} = \begin{cases} x_1 = 3 \\ x_2 = 2 \end{cases}$$

El polinomio $P(x)$ factorizado queda: $P(x) = 1(x - 3)(x - 2) = (x - 3) \cdot (x - 2)$

Raíces de polinomios de grado mayor o igual a dos

Para encontrar las raíces de un polinomio de tercer grado, (o mayor) de coeficientes enteros, se deberá aplicar el siguiente procedimiento:

Dado $P(x) = a_n x^n + a_{n-1} x^{n-1} + \dots + a_1 x + a_0$ con $a_0 \neq 0$

- ❖ Buscar los divisores de los términos a_0 (independiente) y a_n (principal)
 - ❖ Generar el conjunto de "posibles raíces" con todas las fracciones $\frac{\text{Divisores de } a_0}{\text{Divisores de } a_n}$
 - ❖ Probar, utilizando el Teorema del Resto, cada una de estas fracciones hasta obtener una raíz de $P(x)$.
 - ❖ Aplicando Ruffini se divide $P(x)$ en $(x - a)$ (siendo a la primera raíz encontrada) y se obtiene un polinomio de un grado menor que el dado.
 - ❖ Si éste es dos, se aplica el procedimiento de polinomios de grado dos; si es mayor se busca otra raíz y se repite desde el paso anterior.
1. Los pasos anteriores sólo sirven para hallar las raíces racionales del polinomio, las irracionales y las complejas conjugadas se determinan con otros algoritmos.
 2. Si $a_0 = 0$, factorizar primero extrayendo factor común y si el polinomio resultante verifica el enunciado, aplicar el procedimiento enunciado.

Ejemplo: Sea $P(x) = x^3 - 2x^2 - 5x + 6$, encontrar sus raíces y factorizarlo

$$a_0 = 6 \quad a_1 = 1$$

Las posibles raíces son: $\frac{\text{Divisores de } a_0}{\text{Divisores de } a_n} : \{ 6, -6, 3, -3, 2, -2, 1, -1 \}$

$$P(-1) = (-1)^3 - 2(-1)^2 - 5(-1) + 6 = 8 \neq 0 \quad \Rightarrow -1 \text{ no es raíz de } P(x)$$

$$P(1) = 1^3 - 2 \cdot 1^2 - 5 \cdot 1 + 6 = 0 \quad \Rightarrow 1 \text{ es raíz de } P(x)$$

❖ Dividir $P(x)$ por $(x - 1)$ usando Regla de Ruffini

	1	-2	-5	6
		1	-1	-6
1				
	1	-1	-6	0

$C(x) = x^2 - x - 6 \quad R(x) = 0$

Por lo tanto: $P(x) = x^3 - 2x^2 - 5x + 6$

Puede expresarse: $P(x) = (x^2 - x - 6) \cdot (x - 1)$

❖ Determinar las raíces de $C(x) = x^2 - x - 6 = 0$

$$x_{2,3} = \frac{-b \pm \sqrt{b^2 - 4ac}}{2a} = \frac{1 \pm \sqrt{1 - 4 \cdot 1 \cdot (-6)}}{2} = \frac{1 \pm 5}{2} = \begin{cases} x_2 = 3 \\ x_3 = -2 \end{cases}$$

Por lo tanto las raíces del polinomio $P(x)$ son: $x_1 = 1$, $x_2 = 3$, $x_3 = -2$

El polinomio $P(x)$ factorizado es:

$$P(x) = 1 \cdot (x - 1) \cdot (x - 3) \cdot (x + 2)$$

ACTIVIDADES

1. Factorizar los siguientes polinomios:

$A(x) = 4x^2 - 4x + 1$	$E(y) = 16 - y^4$
$B(x) = 2x^2 - 6x$	$F(x) = 2x^3 - 18x$
$C(x) = x^3 + 6x^2 + 9x$	$G(x) = x^3 + 4x^2 - 5$
$D(x) = 4x^2 - 1$	

2. Encontrar las raíces de los siguientes polinomios y factorizarlos según el Teorema Fundamental del Álgebra.

a) $R(x) = 2x^2 + 2x - 12$

b) $P(x) = x^3 + 2x^2 - 5x - 6$

3. Simplificar y resolver: (Recordar que para simplificar hay que factorizar previamente a la expresión)

a) $-\frac{1}{x^2 - x} + \frac{2}{x^2 - 1}$

d) $\left[x - \frac{3}{x-2} \right] : \left[1 - \frac{1}{x-2} \right]$

b) $\frac{u \cdot v}{u - v} : \frac{u^2 \cdot v^2}{u^2 - v^2}$

e) $\frac{9x+27}{x^3 + 6x^2 + 9x} \div \frac{9x-27}{2x^3 - 18x}$

c) $\frac{x^2 - 2x}{x^2 + x - 2} \cdot \frac{x^2 + 5x + 6}{x^2 + x - 6}$

f) $\frac{x^2 - 6x + 9}{5x - 15} \times \frac{3x^2 - 27}{4x + 12}$

UNIDAD 4

Trigonometría

INTRODUCCIÓN

La palabra TRIGONOMETRIA proviene del griego Trigonom: triangulo y Metrom: medida. Entonces significa “MEDIDA DE TRIANGULOS”.

Desde sus orígenes, la TRIGONOMETRIA estudia: las relaciones entre los lados y los ángulos de triángulos, las propiedades y aplicaciones de las funciones trigonométricas de ángulos. Las dos líneas fundamentales de la trigonometría son la trigonometría plana, que se ocupa de figuras contenidas en un plano, y la trigonometría esférica, que se ocupa de triángulos que forman parte de la superficie de una esfera.

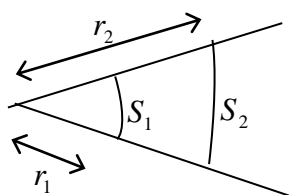
SISTEMA DE MEDICIÓN ANGULAR

Para expresar la medida de un ángulo, se pueden utilizar los siguientes sistemas:

- ❖ **Sistema sexagesimal:** su unidad de medida es el “grado sexagesimal”; donde un grado sexagesimal (simbólicamente 1°) representa la noventa-ava parte de un ángulo recto.

$$1^\circ = \frac{\text{ángulo recto}}{90} \Rightarrow 90^\circ = \text{ángulo recto}$$

- ❖ **Sistema Radial:** Para definir la unidad de medida de este sistema, analicemos previamente: Sea un ángulo cualquiera, con centro en el vértice del ángulo y radios r_1 y r_2 , si se trazan arcos de circunferencias de longitudes S_1 , S_2 ; se obtiene la siguiente figura:



Se verifica que:

$$\frac{S_1}{r_1} = \frac{S_2}{r_2} = a ; \text{ con } a = \text{cte}$$

Para cualquier radio r , y la correspondiente longitud de arco S , se verifica:

$$\frac{S}{r} = a \Rightarrow S = a \cdot r$$

La constante “a” es característica del ángulo en cuestión y determina el valor del ángulo. Se dirá que el ángulo se mide en “radianes”.

Un **radián** es la medida del ángulo cuyo arco es igual al radio de la circunferencia, en la que está centrado.

Nota: Sabiendo que el ángulo central positivo de un giro es $\alpha = 360^\circ$ y recordando que la longitud de la circunferencia es $2 \cdot \pi \cdot r$, un ángulo central verifica:

$$\alpha = 360^\circ = \frac{S}{r} = \frac{2\pi r}{r} = 2\pi \quad \text{Por lo tanto:} \quad \mathbf{360^\circ = 2 \pi \text{ radianes}}$$

Ejemplos:

a) Determinar los radianes que representan 35° .

$$\begin{array}{l} 360^\circ \text{ — } 2\pi \text{ rad} \\ 35^\circ \text{ — } x \text{ rad} \Rightarrow x = \frac{35^\circ \cdot 2\pi \text{ rad}}{360^\circ} = \frac{7}{36} \pi \text{ rad} \end{array}$$

b) Determinar los grados sexagesimales que representan 3π rad.

$$\begin{array}{l} 2\pi \text{ rad} \quad 360^\circ \\ 3\pi \text{ rad} \quad x \Rightarrow x = \frac{3\pi \text{ rad} \cdot 360^\circ}{2\pi \text{ rad}}; \text{ luego } x = 540^\circ \end{array}$$

TABLA DE CONVERSIÓN ENTRE LOS SISTEMAS DE MEDIDAS ANGULARES

Ángulo en Grados	Ángulo en Radianes
0	0
30	$\frac{\pi}{6}$
45	$\frac{\pi}{4}$
60	$\frac{\pi}{3}$
90	$\frac{\pi}{2}$
180	π
270	$\frac{3}{2} \pi$
360	2π

ACTIVIDADES

1. Calcular la medida de los siguientes ángulos en radianes:

a) $\hat{a} = 18^\circ$

b) $\alpha = 78^\circ$

2. Calcular la medida de los siguientes ángulos en grados:

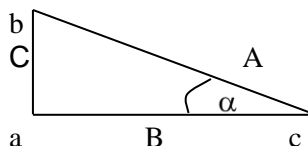
a) $\hat{e} = \frac{3}{7} \pi$

b) $\alpha = 3 \text{ rad}$

Razones trigonométricas

Se llaman razones trigonométricas a las relaciones entre los lados y ángulos de un triángulo rectángulo. Son seis y reciben el nombre de seno, coseno, tangente, cotangente, secante y cosecante.

Considerando el ángulo α se pueden definir las seis razones de la siguiente forma:



$$\text{sen } \alpha = \frac{\text{cat op}}{\text{hip}} = \frac{C}{A}$$

$$\text{sec } \alpha = \frac{\text{hip}}{\text{cat ady}} = \frac{A}{B}$$

$$\text{cos } \alpha = \frac{\text{cat ady}}{\text{hip}} = \frac{B}{A}$$

$$\text{cosec } \alpha = \frac{\text{hip}}{\text{cat op}} = \frac{A}{C}$$

$$\text{tg } \alpha = \frac{\text{cat op}}{\text{cat ady}} = \frac{C}{B}$$

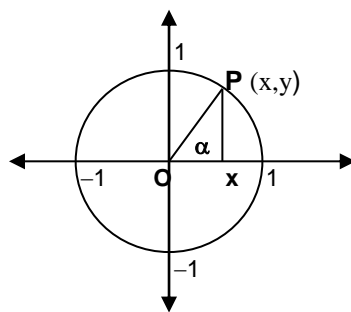
$$\text{cotg } \alpha = \frac{\text{cat ady}}{\text{cat op}} = \frac{B}{C}$$

De las definiciones anteriores se deduce que

$$\text{tg } \alpha = \frac{\text{sen } \alpha}{\text{cos } \alpha} ; \text{cotg } \alpha = \frac{1}{\text{tg } \alpha} ; \text{sec } \alpha = \frac{1}{\text{cos } \alpha} ; \text{cosec } \alpha = \frac{1}{\text{sen } \alpha}$$

Circunferencia Trigonométrica

Recibe el nombre de **circunferencia trigonométrica** la circunferencia de centro en el origen de coordenadas cartesianas (0,0) y de radio $r = 1$.



Al considerar un punto $P(x,y)$ perteneciente a la circunferencia trigonométrica y unir el punto P con el origen de coordenadas se obtiene el segmento $\overline{OP} = r = 1$ (radio de la circunferencia), que coincide con la hipotenusa del triángulo rectángulo OPX .

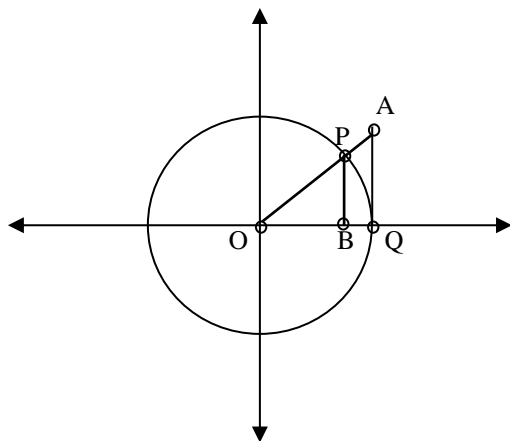
Observando el gráfico es claro que:

$\overline{OP} = r =$ **hipotenusa**

$\overline{OX} = x$ (abscisa del punto P) = **cateto adyacente** del ángulo α (en el triángulo OPX)

$\overline{PX} = y$ (ordenada del punto P) = **cateto opuesto** del ángulo α (en el triángulo OPX)

Las razones trigonométricas tienen una **representación segmentaria** en la circunferencia trigonométrica, que para ángulos del primer cuadrante es:

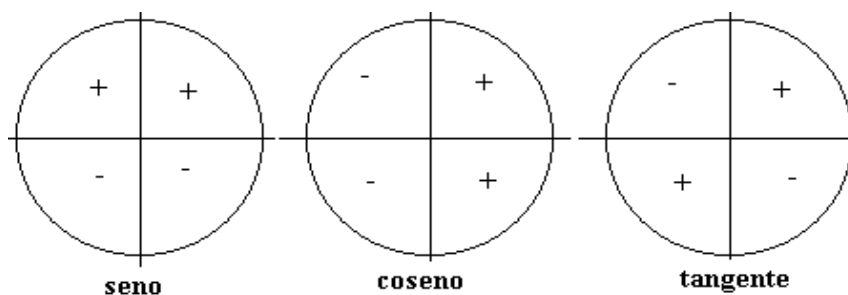


$\overline{OB} = x$: representa el **cos** α

$\overline{PB} = y$: representa el **sen** α

\overline{QA} : representa la **tg** α

Nota: Las razones presentan los siguientes signos de acuerdo a cada cuadrante, dependiendo del signo de las abscisas y ordenadas:



ACTIVIDAD

Completar el siguiente cuadro con el signo correspondiente.

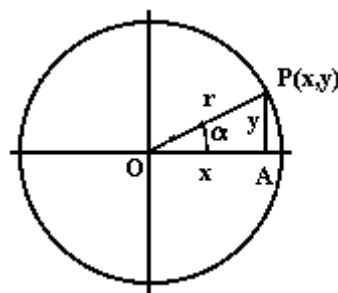
α	$\text{sen } \alpha$	$\text{cos } \alpha$	$\text{tg } \alpha$	$\text{cotg } \alpha$	$\text{cosec } \alpha$	$\text{sec } \alpha$
1° Cuadrante						
2° Cuadrante						
3° Cuadrante						
4° Cuadrante						

Relaciones entre las razones trigonométricas

❖ **Teorema fundamental.**

$$\text{sen } \alpha = \frac{y}{r} \quad \text{de donde } y = r \text{ sen } \alpha$$

$$\text{cos } \alpha = \frac{x}{r} \quad \text{de donde } x = r \text{ cos } \alpha$$



Además, según Pitágoras:

$$x^2 + y^2 = r^2$$

luego tenemos que:

$$r^2 \text{cos}^2 \alpha + r^2 \text{sen}^2 \alpha = r^2$$

de donde resulta la expresión:

$$\text{sen}^2 \alpha + \text{cos}^2 \alpha = 1$$

◆ **Dividiendo en la expresión del recuadro por $\text{sen}^2 \alpha$:**

$$1 + \frac{\text{cos}^2 \alpha}{\text{sen}^2 \alpha} = \frac{1}{\text{sen}^2 \alpha} \quad \rightarrow \quad 1 + \text{cotg}^2 \alpha = \text{cosec}^2 \alpha$$

◆ **Dividiendo en la expresión del recuadro por $\text{cos}^2 \alpha$:**

$$\text{tg}^2 \alpha + 1 = \frac{1}{\text{cos}^2 \alpha} \quad \rightarrow \quad \text{tg}^2 \alpha + 1 = \text{sec}^2 \alpha$$

❖ **Ángulos opuestos: Si $\beta = -\alpha$**

$$\text{sen } \alpha = \frac{y}{r}$$

$$\text{sen } \beta = \frac{y'}{r} = \frac{-y}{r} \Rightarrow \text{sen } \beta = -\text{sen } \alpha$$

$$\text{cos } \alpha = \frac{x}{r}$$

$$\text{cos } \beta = \frac{x}{r} \Rightarrow \text{cos } \beta = \text{cos } \alpha$$

ACTIVIDAD

1. Completar el cuadro conociendo los valores de algunas relaciones trigonométricas.

α	0°	30°	45°	60°	90°
sen α	0	$\frac{1}{2}$	$\frac{\sqrt{2}}{2}$	$\frac{\sqrt{3}}{2}$	1
cos α	1	$\frac{\sqrt{3}}{2}$	$\frac{\sqrt{2}}{2}$	$\frac{1}{2}$	0
tg α					
cotg α					
sec α					
cosec α					

2. Calcular $\text{sen } \alpha$ y $\text{tg } \alpha$, usando la Relación Fundamental, sabiendo que $\text{cos } \alpha = -\frac{3}{5}$ y α es un ángulo del segundo cuadrante.
3. Calcular $\text{cos } \alpha$ y $\text{cotg } \alpha$, usando la Relación Fundamental, sabiendo que $\text{sen } \alpha = \frac{1}{2}$ y α es un ángulo del segundo cuadrante.

INVERSAS DE RELACIONES TRIGONOMÉTRICAS

Puede observarse la siguiente situación:

Para el ángulo α de 30° ; o sea para el arco $\frac{\pi}{6}$, le corresponde el valor de la función seno igual a

$$0,5; \text{ es decir: } 0,5 = \text{sen } \frac{\pi}{6}.$$

Esta “relación” implica que $\frac{\pi}{6}$ es el “arco cuyo seno” es 0,5.

Simbólicamente, se puede expresar lo siguiente:

Si “y” es el seno de “x”, esto implica que “x” es el “arco cuyo seno” es “y”.

$$y = \text{sen } x \Rightarrow x = \text{arcsen } y$$

La relación “arco seno” es la inversa del seno.

Análogamente: $y = \text{cos } x \Rightarrow x = \text{arccos } y$
 $y = \text{tg } x \Rightarrow x = \text{arctg } y$

Tener en cuenta el siguiente cuadro, que ayudará para ubicar el ángulo en el cuadrante correspondiente, conociendo la relación trigonométrica.

Valor de la Relación Trigonométrica	Ángulo agudo dado por la calculadora
Seno – Positivo	α , $(180^\circ - \alpha)$
Seno – Negativo	$(\alpha + 360^\circ)$, $(\alpha + 180^\circ)$
Coseno – Positivo	α , $(360^\circ - \alpha)$
Coseno – Negativo	α , $(360^\circ - \alpha)$
Tangente – Positivo	α , $(\alpha + 180^\circ)$
Tangente – Negativa	$(\alpha + 360^\circ)$, $(180^\circ + \alpha)$

Ejemplos:

a) $\text{sen } \alpha = 0,5$ $\begin{matrix} \nearrow \alpha = 30^\circ \text{ (valor de calculadora)} \\ \searrow 180^\circ - \alpha = 150^\circ \end{matrix}$

b) $\sin \alpha = -0,5 \rightarrow \alpha = -30^\circ$ (valor de calculadora)

Rtas: $-30^\circ + 360^\circ = 330^\circ$

$|-30^\circ| + 180^\circ = 210^\circ$

c) $\cos \alpha = 0,5 \rightarrow \alpha = 60^\circ$ (valor de calculadora)

$360^\circ - \alpha = 300^\circ$

d) $\operatorname{tg} \alpha = 1 \rightarrow \alpha = 45^\circ$ (valor de calculadora)

$\alpha + 180^\circ = 45^\circ + 180^\circ = 225^\circ$

e) $\operatorname{tg} \alpha = -1 \rightarrow \alpha = -45^\circ$ (valor de calculadora)

$360^\circ + \alpha = 315^\circ$

$180^\circ + \alpha = 135^\circ$

ACTIVIDADES

1. Haciendo uso de la calculadora, obtener el valor de las siguientes razones trigonométricas.

a) $\sin 100^\circ =$

e) $\operatorname{cotg} 2,6 =$

b) $\cos 0,5 =$

f) $\sec 20,1 =$

c) $\operatorname{tg} 20^\circ 10' 3'' =$

g) $\operatorname{cosec} 142^\circ 15'' =$

d) $\operatorname{cotg} 2,6^\circ =$

2. Si $\operatorname{tg} \alpha = 2,5$ y α está en el primer cuadrante. ¿Cuánto mide α en radianes?

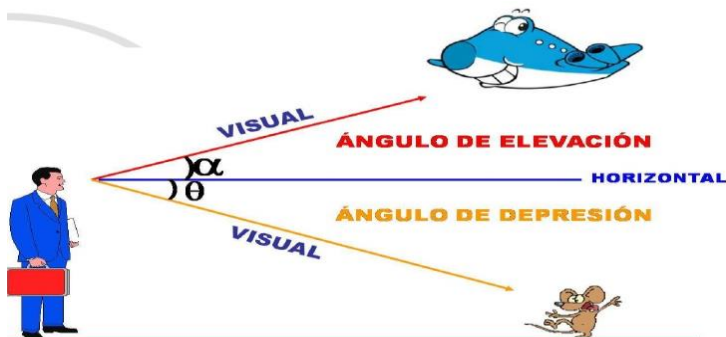
3. Si $\sin \hat{\alpha} = 0,5$ y $\hat{\alpha}$ pertenece al II cuadrante; ¿Cuánto mide $\hat{\alpha}$ en sexagesimal?

4. Calcular las demás razones trigonométricas de α sabiendo que $\sin \alpha = \frac{4}{5}$ y α es un ángulo del segundo cuadrante.

5. Calcular las demás razones trigonométricas de α sabiendo que $\cos \alpha = -\frac{\sqrt{3}}{2}$ y α está en el tercer cuadrante.

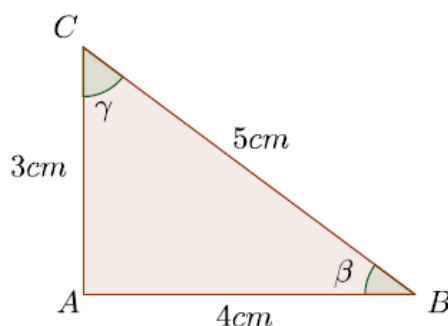
APLICACIÓN DE TRIGONOMETRÍA EN TRIÁNGULOS RECTÁNGULOS

Otro de los conceptos que aplicamos para dar solución a las situaciones planteadas mediante un triángulo rectángulo es el de **ÁNGULO DE ELEVACION Y ÁNGULO DE DEPRESION**.



El término ángulo de elevación denota al ángulo desde la horizontal hacia arriba a un objeto. El término ángulo de depresión denota al ángulo desde la horizontal hacia abajo a un objeto. Una línea de vista para el observador estaría debajo de la horizontal.

EJEMPLO 1: En el siguiente triángulo, el lado \overline{BC} mide 5 cm, el lado \overline{AC} mide 3 cm y el lado \overline{AB} mide 4 cm. Calcular el seno y el coseno de los ángulos β y γ .



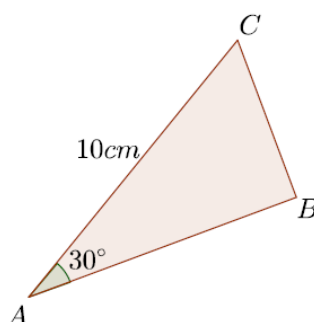
Primero, debemos identificar cuál es el cateto adyacente y cuál es el cateto opuesto para cada ángulo. En el caso del ángulo β , el cateto adyacente es el lado \overline{AB} y el cateto opuesto es el lado \overline{AC} ; mientras que para el ángulo γ el cateto adyacente es el lado \overline{AC} y el cateto opuesto es el lado \overline{AB} . La hipotenusa es el lado \overline{BC} .

Por lo que resulta:

$$\begin{array}{l} \text{sen}(\beta) = \frac{3}{5} = 0,6 \quad \text{sen}(\gamma) = \frac{4}{5} = 0,8 \\ \text{cos}(\beta) = \frac{4}{5} = 0,8 \quad \text{cos}(\gamma) = \frac{3}{5} = 0,6 \end{array} \Rightarrow \begin{array}{l} \text{sen}(\beta) = 0,6 \quad \text{cos}(\beta) = 0,8 \\ \text{sen}(\gamma) = 0,8 \quad \text{cos}(\gamma) = 0,6 \end{array}$$

PROBLEMAS DE APLICACIÓN

EJEMPLO 2: La hipotenusa de un triángulo rectángulo mide 10 cm y uno de sus ángulos mide 30° . ¿Cuánto miden los otros lados?



Para resolver este problema, denotamos A, B y C a los vértices del triángulo, donde B es el vértice del ángulo recto y A es el vértice del ángulo de 30° , que llamamos α . Entonces tenemos que:

$$\cos(\alpha) = \frac{|AB|}{|AC|}, \quad \text{sen}(\alpha) = \frac{|BC|}{|AC|}.$$

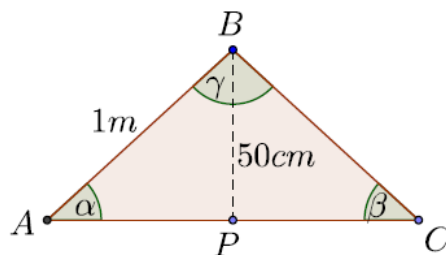
Como $|AC| = 10$, $\cos(30^\circ) = \frac{\sqrt{3}}{2}$ y $\text{sen}(30^\circ) = \frac{1}{2}$, tenemos que los otros lados del triángulo miden:

$$|AB| = 5\sqrt{3}, \quad |BC| = 5.$$

Dado que la unidad de medida es el centímetro, tenemos que el cateto adyacente mide $5\sqrt{3}$ cm y el cateto opuesto mide 5 cm.

Es importante que todas las longitudes se expresen en una misma unidad de medida

EJEMPLO 3: En el triángulo isósceles de la figura, los lados iguales miden 1 m, y la altura con respecto al lado restante miden 50 cm. ¿Cuál es la medida de los ángulos?



Si denominamos α y β a los ángulos iguales, y P es el pie de la altura respecto al lado \overline{AC} , entonces:

$$\text{sen}(\alpha) = \frac{|\overline{BP}|}{|\overline{AB}|}.$$

Ahora bien, la longitud de \overline{BP} está expresada en centímetros y la longitud de \overline{AB} en metros. Para calcular $\text{sen}(\alpha)$ debemos expresar estas longitudes en una misma unidad de medida, cualquiera sea. Si consideramos centímetros, obtenemos:

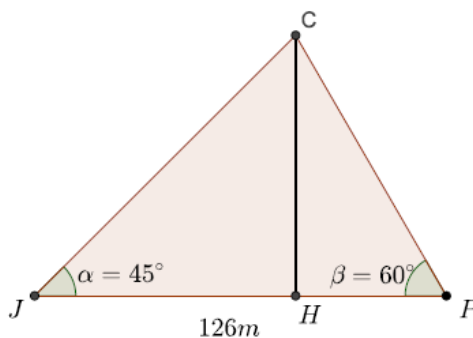
$$\text{sen}(\alpha) = \frac{50}{100} = \frac{1}{2},$$

e idéntico resultado si consideramos metros:

$$\text{sen}(\alpha) = \frac{0,5}{1} = \frac{1}{2}.$$

A partir de lo cual se concluye que $\alpha = \beta = 30^\circ$, y el ángulo restante es de 120° .

EJEMPLO 4: Juan y Pedro ven desde las puertas de sus casas la parte superior de una torre, bajo ángulos de 45° y 60° con respecto al suelo. La distancia entre sus casas es de 126 m y la torre está situada entre sus casas y sobre la línea que las une. Hallar \overline{CH} , la altura de la torre.



La figura precedente ilustra gráficamente este problema. El vértice J del triángulo representa la casa de Juan, P la de Pedro, y C es la parte superior de la torre. La altura con respecto al lado \overline{JP} ,

es decir, \overline{HC} , determina dos triángulos rectángulos: \widehat{JHC} y \widehat{PHC} . Entonces tenemos que:

$$\operatorname{tg}(45^\circ) = \frac{|\overline{HC}|}{|\overline{JH}|}, \operatorname{tg}(60^\circ) = \frac{|\overline{HC}|}{|\overline{HP}|}$$

Es decir,

$$|\overline{HC}| = |\overline{JH}| \cdot \operatorname{tg}(45^\circ), |\overline{HC}| = |\overline{HP}| \cdot \operatorname{tg}(60^\circ).$$

Pero además tenemos que:

$$|\overline{JH}| + |\overline{HP}| = \overline{JP} = 126$$

Para simplificar la escritura, llamamos $x = |\overline{JH}|$ y $h = |\overline{HP}|$. Entonces $|\overline{HP}| = 126 - x$, y resulta el siguiente sistema de ecuaciones:

$$\begin{cases} h = x \cdot \operatorname{tg}(45^\circ) \\ h = (126 - x) \cdot \operatorname{tg}(60^\circ) \end{cases}$$

Tenemos que: $\operatorname{tg}(45^\circ) = 1$ y $\operatorname{tg}(60^\circ) = \sqrt{3}$, por lo cual $h = x$ y entonces:

$$h = (126 - h) \cdot \sqrt{3}$$

Luego:

$$h = \frac{126\sqrt{3}}{\sqrt{3} + 1} \sim 79,9$$

Finalmente, la altura de la torre es aproximadamente 79,9 m.

ACTIVIDADES

1. Sea $\triangle ABC$ un triángulo rectángulo en \hat{a} , el segmento \overline{ab} mide 20 cm. y el ángulo \hat{c} , opuesto a ese lado, mide 42° . Calcular:

- a) el lado \overline{ac} b) el lado \overline{bc} c) el ángulo \hat{b}

2. Sea $\triangle abc$ un triángulo rectángulo en \hat{a} , los segmentos \overline{ab} y \overline{ac} miden 2 m y 4 m, respectivamente. Calcular:

- a) el lado \overline{bc} b) el ángulo \hat{b} c) el ángulo \hat{c}

3. Dos lados adyacentes de un paralelogramo se cortan en un ángulo de 36° y tienen longitudes de 3 y 8 cm. Determina la longitud de la diagonal menor.



**PRÁCTICAS
DE
APRENDIZAJE**



UNIDAD N° 1

PRACTICA DE APRENDIZAJE N° 1: CONJUNTOS

Actividad N° 1: Revisar los conceptos presentados en el material teórico-práctico de la UNIDAD 1 y responder:

- a) ¿Cuáles son las formas de definir un conjunto? Ejemplificar.
- b) ¿Cómo se representa que un elemento pertenece o no pertenece a un conjunto? Indicar con ejemplos en forma analítica y gráfica.
- c) Ejemplificar a través de conjuntos numéricos, la relación de inclusión entre conjuntos.
- d) ¿En qué contexto deben aplicar la relación de inclusión y la relación de pertenencia?

Actividad N° 2: Sea $T = \{x \in \mathbb{Z}: 4x = 12\}$. ¿Es $T = 3$? ¿Por qué?

Actividad N° 3: Escribir cómo se lee cuando expresamos un conjunto por comprensión:

$A = \{x / x \text{ sea una vocal}\} \dots\dots\dots$

$B = \{x \in \mathbb{N} / x \leq 3,5\} \dots\dots\dots$

Actividad N° 4: Expresar por extensión cada uno de los siguientes conjuntos:

$$A = \{x \in \mathbb{Z}: x^2 = 4\}$$

$$B = \{x: x \text{ es una letra de la palabra CORRECTO}\}$$

$$C = \{x \in \mathbb{Z}: x^2 = 9\}$$

Actividad N° 5: Considerar el conjunto $A = \{r, s, m, e\}$. Razonar la veracidad de las siguientes afirmaciones:

- a) $c \in A$,
- b) $\{r, c, m\} \in A$,
- c) $\{m\} \subset A$,
- d) $\{e, m, r\} \subset A$
- e) $\{s, e\} \subset A$
- f) $\{s, r\} \notin A$

Actividad N° 6: Escribir simbólicamente las siguientes afirmaciones:

- a) v pertenece al conjunto M
- b) El conjunto T no contiene como subconjunto al conjunto H
- c) Entre los elementos del conjunto G está el número 2
- d) El conjunto Z no es un subconjunto del conjunto B pero si lo es del conjunto H
- e) El conjunto X no contiene al conjunto K
- f) El conjunto vacío está contenido en si mismo
- g) El conjunto X no está contenido en si mismo.

Actividad N° 7: Si $E = \{1,0\}$, razonar cuáles de las afirmaciones siguientes son correctas y cuáles no:

$$\{0\} \in E$$

$$\emptyset \in E$$

$$\{0\} \subseteq E$$

$$0 \in E$$

$$0 \subseteq E$$

Actividad N° 8: Dados los conjuntos $A = \{1,3,5,7,8,9\}$ $B = \{x \in \mathbb{N} / x \text{ es impar y } x < 12\}$ ¿Cuáles de las siguientes alternativas es la correcta ?

a) $A \neq B$

b) $A \subseteq B$

c) $B \subseteq A$

d) $A \cup B = \{2,4,6,8,10\}$

e) $A \cap B = \{1,3,5,7,9\}$

f) $A - B = \{8\}$

Actividad N° 9: ¿Cuáles de los siguientes conjuntos son vacíos, unitarios, finitos o infinitos?

a) $A = \{x / x \text{ es día de la semana}\}$

b) $B = \{\text{vocales de la palabra vals}\}$

c) $C = \{1, 3, 5, 7, 9, \dots\}$

d) $D = \{x / x \text{ es un habitante de la luna}\}$

e) $E = \{x \in \mathbb{N} / x < 15\}$

f) $F = \{x \in \mathbb{N} / 5 < x < 5\}$

g) $G = \{x \in \mathbb{N} / x > 15\}$

h) $H = \{x \in \mathbb{N} / 3x = 6\}$

i) $I = \{x / x \text{ es presidente del Mar Mediterráneo}\}$

Actividad N° 10: Definir por extensión o por comprensión los siguientes conjuntos, según corresponda:

a) El conjunto de los números naturales impares menores de 11.

b) El conjunto de los números naturales pares mayor que 10 y menor que 20.

c) $A = \{x / x \in \mathbb{N} \text{ y } 0 \leq x \leq 12\}$

f) $B = \{x / x \in \mathbb{Z} \text{ y } 0 \leq x \leq 12\}$

d) $C = \{x / x \in \mathbb{R} \text{ y } x^2 - 4 = 0\}$

g) $D = \{x / x \in \mathbb{N} \text{ y } x^2 - 4 = 0\}$

e) $E = \{x / x \in \mathbb{Z} \text{ y } x^2 - 4 = 0\}$

Actividad N° 11: Aplicar propiedades adecuadas para resolver las siguientes operaciones.

a) $\sqrt{4} + 2\sqrt{16} =$

b) $\sqrt{5^2 - 3^2} - (7 - 9)^3 - \left\{(-5)^3\right\}^{-1} =$

c) $\frac{1}{4}\sqrt{2}\sqrt{3} - \frac{1}{2}\sqrt{6} + 1,2\sqrt{24} : (-2)^2 =$

d) $2^3 - \left[\left(\frac{1}{3}\right)^{-1} - 2(5 - 10)\right] + \sqrt{2 \cdot 8} =$

e) $\frac{3+\frac{1}{5}}{2+\frac{2}{5}} - \frac{3-\frac{2}{3}}{\left(2-\frac{1}{3}\right) \cdot 7} =$

f) $\frac{\left(\sqrt{0,09}+\frac{1}{2}+0,7\right)^2 - \left(0,7-\frac{1}{5}\right)^2}{\frac{3}{2}-\sqrt{0,25}} =$

Actividad N° 12: Reducir las siguientes expresiones:

a) $-2ab + ba =$

e) $x(-y)(-z)^2(-yx) + (3zyx)^2 + 3(-y)(-2z)^2(-x)(-yx) =$

b) $(-ab)^2 - (ba)^2 =$

f) $\frac{z^{-3} \cdot a^5 \cdot b^{3/2}}{a^{-1} \cdot z^{-7} \cdot b^0} =$

c) $(xy - yx) \frac{\sqrt{4x^3y^3}}{\sqrt{xy^5}} =$

g) $= \left(\frac{x-3y}{5}\right)^0 \frac{\sqrt[3]{x^3 27y^6}}{\sqrt[6]{y^3 x^6}} =$

d) $\sqrt[3]{m^4} \cdot \sqrt{\frac{m^4}{y^6}} =$

h) $\frac{4^0 \cdot (5^{1/2})^{2/3} (2^{-3})^2}{5^3 \cdot (2^{10})^{-1/2} \cdot 2^2} =$

Actividad N° 13: Dados los conjuntos $U = \mathbb{N}$, $A = \{1, 2, 3, 5\}$, $B = \{x \in \mathbb{N} / (x - 5) \cdot (x + 3) \cdot (x - (-6)) = 0\}$,

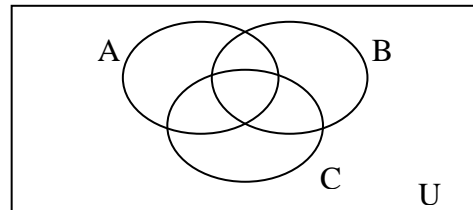
$C = \{x \in \mathbb{N} / x \leq 4\}$ y $D = \{x \in \mathbb{N} / x \text{ es par menor que } 10\}$, se pide:

a) Definir por extensión los conjuntos B, C y D.

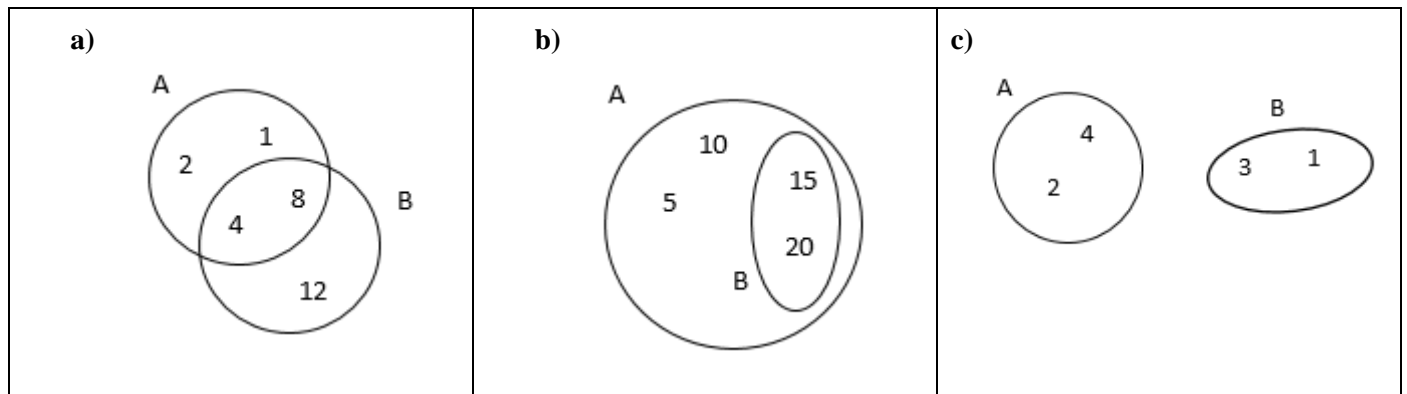
b) Calcular: $A \cap B$; $C \cap D$; $B \cup C$; $A \cup B$; \bar{C} ; $A - B$; $B - A$; $B - D$; $A \cup B \cup \bar{C}$; $\bar{C} \cup (B - D)$

Actividad N° 14: Sombrear el área correspondiente a la operación indicada.

a) $(A \cup B) - C$	b) $\overline{A \cup B \cup C}$
c) $(A \cap B) \cup C$	d) $(A \cap B) \cup \bar{C}$

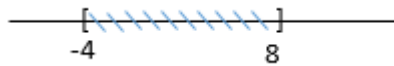


Actividad N° 15: Teniendo en cuenta los siguientes diagramas de Venn, expresar por extensión y por comprensión los conjuntos A y B y compararlos según la relación de inclusión:

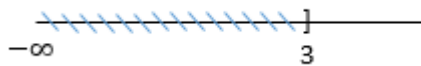


Actividad N ° 16: Expresar la notación de los siguientes intervalos:

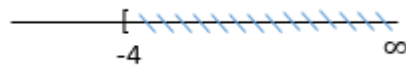
a)



b)



c)



Actividad N ° 17: Resolver analítica y gráficamente:

a) $[1,3) \cup (2,3] =$

b) $[6,8) \cap [7,9) =$

c) $[4,9] \cap (7,8) =$

d) $\overline{(-3,5] \cap (2,3)} =$

e) $(-\infty, 1) - (0, \infty) =$

f) $(2,3] - \overline{(-\infty, 1)} =$



UNIDAD N° 2

PRACTICA DE APRENDIZAJE N° 2: ECUACIONES – INECUACIONES – SISTEMAS DE ECUACIONES LINEALES

Actividad N° 1: Revisar los conceptos presentados en el material teórico-práctico de la UNIDAD 2 y completar el siguiente texto:

- Una ecuación es una..... que contiene.....
- Una es un símbolo o letra que se usa para representar números en una expresión matemática.
- Resolver una ecuación significa

Actividad N° 2: Resolver las siguientes ecuaciones, en el caso de tratarse de ecuaciones de grado dos clasificar sus raíces por medio del discriminante:

a) $3(2x - 1) = 8x - 9$

f) $x^2 - 4x + 13 = 0$

b) $9x + 5 - 3 = 2(x + 2) - 9$

g) $x^2 + 36 = 12x$

c) $\frac{x+3}{2} = \frac{2x+1}{3}$

h) $4 - 2n + n^2 = 0$

d) $3(x - 12) = 7(x - 2) + 3$

i) $3x^2 - 5x + 1 = 2 - 6x + 3x^2$

e) $5 + 2x = 4x + 1 + 4$

j) $\frac{x+8}{6-x} = 13$

k) $x^2 + (x + 1)^2 = (2x - 1)(x + 3)$

Actividad N° 3: Despejar cada una de las variables que figuran en las siguientes expresiones algebraicas:

a) $\frac{x}{2} - y = \frac{2}{3}$

e) $\frac{1}{x^3 + 8} - y = 0$

b) $\frac{x - y}{2} = -1$

f) $y - \frac{3}{3 - x} = 1$

c) $\frac{1}{\sqrt[3]{x+9}} - y + 1 = 0$

g) $\frac{2y}{(x-1)^2} = -1$

d) $2y - 4 = x^3 - 3$

h) $1 = \sqrt{\frac{R-S}{S}}$

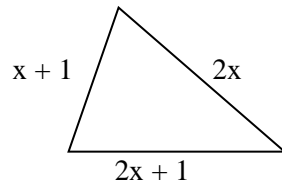
i) $0 = \frac{nE}{R + nr}$ (despejar n)

Actividad N° 4: Resolver las siguientes situaciones problemáticas.

a) Si al cuadrado de un número natural se le resta su sucesor, se obtiene el cuadrado de su antecesor. ¿Cuál es ese número?

b) Juan compró dos lápices y un marcador por \$16,35. Si un lápiz cuesta la mitad del otro y el marcador \$0,10 más que el lápiz más caro. ¿Cuánto pagó por cada artículo?

c) En el siguiente triángulo el perímetro es igual a 12cm. Determinar cuánto mide cada lado y clasificar el triángulo.



d) La longitud de los lados de un triángulo son números naturales consecutivos. Si el perímetro del triángulo es de 18cm. Encontrar los lados del triángulo.

Actividad N° 5: Resolver las siguientes inecuaciones:

a) $x - 7 < 2$

b) $2x + 4 \geq 6$

c) $9 < 3 - 2x < 13$

d) $x - 2 \cdot (1 + x) > 7$

Actividad N° 6: Completar el siguiente cuadro:

Ejercicio	Valor absoluto	Resolver	Graficar	Expresar como Intervalo
1)	$ x = a$	$x = a$ ó $x = -a$		
2)	$ x \leq a$			
3)	$ x \geq a$			
4)	$\sqrt{x^2} = x $			
5)	$ x - 1 \leq 3$			
6)	$ 1 - 2x > 3$			
7)	$\left \frac{2 + 3x}{3} \right < 1$			
8)	$\left \frac{1 - 2x}{2} \right > 2$			

Actividad N ° 7: Determinar los siguientes conjuntos y expresarlos, de ser posible, como intervalos:

$$A = \{ x \in \mathbb{Z} : |x - 2| = 4 \}$$

$$B = \{ x \in \mathbb{N}_0 : x^2 - 1 \leq 3 \}$$

$$C = \{ x \in \mathbb{R} : x^2 - 1 \leq 3 \}$$

$$D = \{ x \in \mathbb{Z} : |x| - 1 = 1 \text{ o } |x| + 3 = 3 \}$$

$$E = \{ x \in \mathbb{R} : |-2x| > 4 \} \cup \{ x \in \mathbb{N} : |x + 1| < 4 \}$$

$$F = \{ x \in \mathbb{Z} : |1 - x| \leq 2 \text{ y } x^2 \leq 4 \}$$

Actividad N ° 8: Para cada uno de los Sistema de Ecuaciones Lineales dados a continuación, hallar analíticamente y gráficamente el conjunto solución S.

$$a) \begin{cases} 5x + 3y = 2 \\ -5x + 6y = 4 \end{cases}$$

$$e) \begin{cases} 4x - y = 12 \\ 2x + 3y = -8 \end{cases}$$

$$b) \begin{cases} 3x - 2y = -12 \\ 5x + 4y = 2 \end{cases}$$

$$f) \begin{cases} \frac{x-1}{4} + y = 0 \\ x + 4y = 3 \end{cases}$$

$$c) \begin{cases} 6x - 9y = 3 \\ 6 - 4y = 4 \end{cases}$$

$$g) \begin{cases} 3x - 2y = 9 \\ 6x - 4y = 4 \end{cases}$$

$$d) \begin{cases} 3x - 2y = 9 \\ -6x + 4y = -18 \end{cases}$$

$$h) \begin{cases} 5x - \frac{4}{5}y - 2x + 3y = \frac{11}{5} \\ \frac{2}{3}x + 3y + 4x - 9y = -6 + 2x \end{cases}$$

Actividad N ° 9: La ecuación de segundo grado $ax^2 + 10x + a = 0$ tiene dos raíces iguales.

- Indicar cuál es el valor de a sabiendo que las raíces son negativas.
- Calcular las raíces de la ecuación para el valor de a calculado en el inciso anterior.

Actividad N ° 10: Hallar el valor de los coeficientes b y c en la ecuación $7x^2 + bx + c = 0$ sabiendo que sus soluciones son $x_1 = 5$ y $x_2 = -6$.

Actividad N ° 11: Calcular el valor del coeficiente b en la ecuación $5x^2 + bx + 6 = 0$ sabiendo que una de sus soluciones es 1. ¿Cuál es la otra solución?

Actividad N ° 12: Calcular el valor de a y b para que la ecuación $ax^2 + bx - 1 = 0$ tenga por soluciones $x_1 = 3$ y $x_2 = -2$.

Actividad N° 13: ¿Para qué valores de a la ecuación $x^2 - 6x + 3 + a = 0$ tiene solución única?

Actividad N° 14: Resolver las siguientes situaciones problemáticas:

- a) El perímetro de un solar rectangular mide 40 metros. Si su ancho es la tercera parte de su largo. ¿Cuánto miden los lados del solar?
- b) En una clase el 70% son chicos. Además, se sabe que hay 12 chicas menos que chicos. ¿Cuántas chicas y chicos hay?
- c) Un automovilista que se detiene a reposar observa que para llegar a su destino todavía le queda el triple de lo que ya ha recorrido. Además, se da cuenta de que, si recorre 10 km más, estará justo en la mitad del trayecto. ¿Cuántos kilómetros ha recorrido y cuál es la longitud del viaje?
- d) Un grupo de 20 personas, después de una caminata, encontró un árbol con 49 naranjas. Cada hombre comió 3, cada mujer 1 y sólo quedó 1 naranja en el árbol. ¿Cuántos hombres y cuántas mujeres formaban el grupo?
- e) En un grupo de 9 personas hay doble número de mujeres que de hombres. ¿Cuántos hay de cada sexo?
- f) En una jaula donde hay conejos y palomas se totalizan 35 cabezas y 94 patas ¿Cuántos animales de cada clase hay?
- g) Un lado de un triángulo isósceles mide 3 cm menos que la suma de los dos lados iguales. El perímetro es de 33 cm. ¿Cuánto mide cada lado?



UNIDAD N° 3

PRACTICA DE APRENDIZAJE N° 3: EXPRESIONES ALGEBRAICAS – POLINOMIOS

Actividad N° 1: Para cada uno de los siguientes polinomios, indicar el grado y el coeficiente principal.

- a) $-7x^3 + 8x^2 + 20x^5 + x$
 b) $1 + x^2 - x^6 + 3$
 c) $2^3 + 3^3x + 4^3x^2 + 5^3x^3$

Actividad N° 2: Teniendo en cuenta los siguientes polinomios, completar el cuadro siguiente:

$$R(x) = 2x + 2; N(x) = -2x^4 - 3x^2 + 1; Q(x) = 3x^2 - 2x + 4; H(x) = x - \frac{1}{2} \quad ; \quad P(x) = 4x^2 - 1$$

$N(x) - H(x)$		$N(x) : P(x)$	
$R(x) + Q(x) - H(x)$		$\frac{1}{2} R^2(x)$	
$P(x) \cdot H(x)$		$\left[\frac{1}{2} R(x)\right]^2$	
$N(x) : H(x)$		$N(x) + R(x) \cdot P(x)$	
$Q(x) : R(x)$		$R\left(-\frac{1}{2}\right)$	

Actividad N° 3: Si $H(x) = mx^3 + 6x^2 + 100$, siendo m un número entero, analizar si 5 es un cero de dicho polinomio.

Actividad N° 4: Sin hacer la división, decir cuál es el resto de dividir el polinomio $P(x)$ por $x - a$:

a) $P(x) = x^3 - x + 1, a = 2$

b) $P(x) = x^4 + x^3 - 6x^2 + x + 3, a = 3$

Actividad N° 5: Calcular k para que $P(x) = kx^3 + 2x^2 - 1$ sea divisible por $Q(x) = x + 1$

Actividad N° 6: Determinar el valor de b para el cual el polinomio $M(x) = x^6 + bx^3 + -5x^2 - 7$ tiene resto 3 en la división por $x + 2$.

Actividad N° 7: Determinar las siguientes potencias

a) $(\sqrt{2}x + b)^2 =$

c) $(a + b)^3 =$

b) $(-3y + \sqrt{5})^2 =$

d) $(a - b)^3 =$

Actividad N° 8: Usando el teorema Fundamental del Algebra, factorizar los siguientes polinomios.

$$P(x) = x^2 - 2x + 1$$

$$R(x) = x^3 + 2x^2 - 3x$$

$$Q(x) = (x^2 - 3x - 4)(x - 1)$$

$$T(x) = (x^2 + 2x - 3) \left(2x - \frac{1}{2} \right) (3x + 1)$$

Actividad N° 9: Dado el polinomio factorizado, determinar el polinomio original.

a) $P(x) = -3 \cdot x \cdot (x + 2) \cdot (x - 3)$

b) $R(x) = -x \cdot (x - 1) \cdot 2 \cdot (x + 1)$

Actividad N° 10: Indicar cuál es la respuesta correcta:

$$\frac{x^4 - y^4}{x^2 - y^2} = \begin{cases} x^2 - y^2 \\ -2 \\ x^2 + y^2 \end{cases}$$

Actividad N° 11: Simplificar las siguientes expresiones:

a) $\frac{x^2 - x}{2x - 2}$

e) $\frac{x + 2}{x^2 + 4x + 4}$

b) $\frac{x^3 + 7x^2 - 2x}{x^5 - 3x^4 + x}$

f) $\frac{x^2 - 4}{x^2 + 4x + 4}$

c) $\frac{4x^4 + 2x^3 + 2x^2 + x}{2x^2 + x}$

g) $\frac{x^3 - x^2 - 2x + 2}{x^2 + 4x - 5}$

d) $\frac{x^5 + 7x^3 - 3x^2}{(2x + x^2)(x - x^3)}$

h) $\frac{x^2 - 1}{(x - 1)^2}$



UNIDAD N° 4

PRACTICA DE APRENDIZAJE N° 4: TRIGONOMETRÍA

Actividad N° 1: Dos de los ángulos interiores de un triángulo miden 60° y $\pi/4$ radianes. Calcular la medida del tercer ángulo interior en grados sexagesimales y en radianes.

Actividad N° 2:

- a) Expresar en radianes los siguientes ángulos: 210° y 70°
- b) Representar en grados sexagesimales los siguientes ángulos: $7\pi/6$ rad y $3,5$ rad

Actividad N° 3: Utilizar una calculadora y determinar las relaciones trigonométricas de los ángulos: 0° , 25° , 45° , 70° y 85° . ¿Entre qué valores varía el seno y el coseno?

Actividad N° 4: ¿Qué signo tienen $\sin \phi$ y $\cos \phi$ en los siguientes ángulos?

- a) $\phi = 200^\circ$
- b) $\phi = 98^\circ$
- c) $\phi = 75^\circ$
- d) $\phi = 300^\circ$
- e) $\phi = 185^\circ$.

Actividad N° 5:

- a) Sea γ un ángulo del cuarto cuadrante tal que $\cos \gamma = 4/5$. Halla $\sin \gamma$ y $\tan \gamma$
- b) Sea ω un ángulo del segundo cuadrante tal que $\sin \omega = 3/4$. Halla $\cos \omega$ y $\tan \omega$

Actividad N° 6: Calcular todas las razones trigonométricas en los siguientes casos

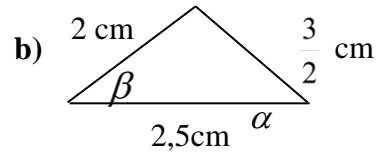
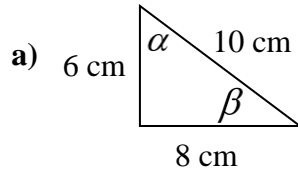
- a) $\tan \theta = 4$ y θ está en el tercer cuadrante
- b) $\tan \theta = -2$ y θ está en el cuarto cuadrante
- c) $\sin \delta = \frac{1}{3}$, $\delta < \frac{\pi}{2}$
- d) $\cos \alpha = -\frac{3}{5}$, $\frac{\pi}{2} < \alpha < \pi$
- e) $\operatorname{cosec} \beta = -\frac{3}{2}$, $\frac{3}{2}\pi < \beta < 2\pi$

Actividad N° 7: Determinar ξ sabiendo que:

- a) $\sin \xi = 0,69465$ y ξ está en el segundo cuadrante
- b) $\tan \xi = -1,42814$ y ξ está en el segundo cuadrante
- c) $\cos \xi = -0,65606$ y ξ está en el tercer cuadrante
- d) $\tan \xi = -2$ y ξ está en el cuarto cuadrante

- e) $\xi = -1/3$ y ξ está en el tercer cuadrante

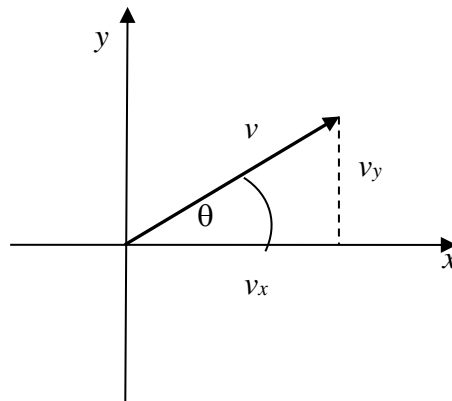
Actividad N° 8: En los siguientes triángulos rectángulos, calcular: seno, coseno y tangente de α y β .



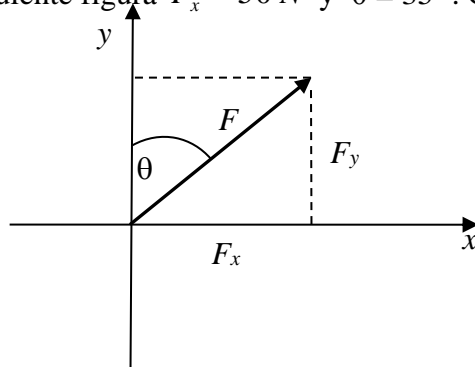
Actividad N° 9:

- Encontrar los ángulos de un triángulo rectángulo sabiendo que los catetos miden 20cm y 35 cm.
- La hipotenusa de un triángulo rectángulo mide 20cm y uno de los catetos 15cm. Determinar la medida de los ángulos.

Actividad N° 10: En la siguiente figura $v = 40 \text{ m/s}$ y $\theta = 30^\circ$. Calcular v_x y v_y .



Actividad N° 11: En la siguiente figura $F_x = 50 \text{ N}$ y $\theta = 35^\circ$. Calcula F y F_y .



Actividad N ° 12: Resolver las siguientes situaciones problemáticas

- a) Desde un avión que vuela a 500m de altura se divisa una boya. La visual dirigida desde el avión a la boya forma con la vertical un ángulo de 45° . Determinar a qué distancia de la boya se encuentra el avión.
- b) Un dirigible que está volando a 800 metros de altura, distingue un pueblo con un ángulo de depresión de 12° . ¿A qué distancia se encuentra del pueblo?
- c) ¿Qué altura debe tener un poste que sostendrá una antena si uno de los cables que la sujeta tiene de longitud 19 m y forma un ángulo de 65° con el piso?
- d) Un árbol se quebró y su extremo superior forma con el piso un ángulo de 48° si éste quedó a una distancia de 7m de la base del árbol. ¿Cuánto mide el árbol?